

LAMPIRAN I

Terjemahan surah al Hujurat ayat 6:

“Wahai orang-orang yang beriman! Jika seseorang yang fasik datang kepadamu membawa suatu berita, maka telitilah kebenarannya, agar kamu tidak mencelakakan suatu kaum karena kebodohan (kecerobohan), yang akhirnya kamu menyesali perbuatanmu itu”

LAMPIRAN II

Terjemahan Surah Al-Qaff Ayat 6 :

Artinya :

“Maka apakah mereka tidak melihat akan langit yang ada di atas mereka, bagaimana Kami meninggikannya dan menghiasinya dan langit itu tidak mempunyai retak-retak sedikitpun ?”

LAMPIRAN III

Daftar Nama Mahasiswa

No	Nama	Lokal
	Khalida Rahmah	A
	Muhammad Ihsan Hidayatullah	A
	Norhhidayah	A
	Muhammad Naufal Azwari	A
	Norma	A
	Mauvira Nadiea	A
	Raudatul Jannah	A
	Ahmad Haris Maulana	A
	Rahmi Rahmayanti	A
	Santi Hajar	A
	Tazkiah	A
	Zahratul Jannah	A
	Aulia Putri	A
	Rina Safera	A
	Noor Hasanatus Saadah	A
	Ziadatul Hikmah	A
	Hadijah	A
	Siti Sholwati	A
	Muhammad Firli Darmawan	E
	Nur Amalia	E
	Suaibatul Aslamiyah	E
	Riska Fahriana	E
	Ahmad Maulana	E
	Siti Maisyarah	E
	Khadijah	E
	Siti Rahmah	E
	Nor Aulia Afifah	E
	Maya Aprilianti	E
	Ahmad Zaki Mubarak	E
	Bainah	E
	Diniyah	E
	Azizah Dewi Fatmarani	E
	Raudatil Jannah	E
	Nurhalisa	E
	Shofiatul Munawarah	E
	Noor Jannah	E
	Nor Fitriyah	E
	Santi Irawati	E
	Nur Laili Khatimah	E

LAMPIRAN IV

Validasi Dari Tim Ahli

No.	Indicator Penilaian									Saran
	Konsep soal dan jawaban benar			Bahasa mudah dipahami			Sesuai dengan indicator soal			
	3	2	1	3	2	1	3	2	1	
	✓				✓		✓			
	✓			✓					✓	Peristiwa hukum I newton
3			✓	✓			✓			Jawaban c
4	✓			✓					✓	hukum I newton
5			✓	✓			✓			Jawaban D
6			✓			✓			✓	
7			✓			✓			✓	
8			✓			✓	✓			hukum III newton
9			✓			✓			✓	
10	✓			✓			✓			
11	✓			✓			✓			
12	✓			✓					✓	hukum I newton
13	✓			✓			✓			
14	✓			✓			✓			
15	✓			✓			✓			hukum III newton
16	✓			✓			✓			
17	✓			✓			✓			
18	✓			✓					✓	hukum I newton
19	✓			✓			✓			
20	✓			✓			✓			hukum III newton
21	✓			✓			✓			
22			✓	✓			✓			Cek perhitungan
23	✓			✓					✓	
24										Ganti soal saja
25	✓				✓		✓			Olah bahasa yang mudah dipahami

Setiap soal memiliki skor maksimal 9

Jadi

Skor X 10 =

Jika > 60 = valid

< 60 = tidak valid

Correlations

	p1	p2	p3	p4	p5	p6	p7	p8	p9	p10	p11	p12	p13	p14	p15	
p1	Pearson Correlation	1	.443	. ^a	-.161	-.237	.207	-.161	-.023	-.023	.207	.452	-.023	.650**	-.161	.207
	Sig. (2-tailed)		.098	.	.566	.396	.459	.566	.936	.936	.459	.091	.936	.009	.566	.459
	N	15	15	15	15	15	15	15	15	15	15	15	15	15	15	15
p2	Pearson Correlation	.443	1	. ^a	-.071	-.105	.681**	-.071	-.161	-.161	-.105	.535*	-.161	.681**	-.071	.681**
	Sig. (2-tailed)	.098		.	.800	.710	.005	.800	.566	.566	.710	.040	.566	.005	.800	.005
	N	15	15	15	15	15	15	15	15	15	15	15	15	15	15	15
p3	Pearson Correlation	. ^a	. ^a	. ^a	. ^a	. ^a	. ^a	. ^a	. ^a	. ^a	. ^a	. ^a	. ^a	. ^a	. ^a	. ^a
	Sig. (2-tailed)
	N	15	15	15	15	15	15	15	15	15	15	15	15	15	15	15
p4	Pearson Correlation	-.161	-.071	. ^a	1	-.105	-.105	-.071	-.161	-.161	-.105	-.134	-.161	-.105	-.071	-.105
	Sig. (2-tailed)	.566	.800	.		.710	.710	.800	.566	.566	.710	.635	.566	.710	.800	.710
	N	15	15	15	15	15	15	15	15	15	15	15	15	15	15	15
p5	Pearson Correlation	-.237	-.105	. ^a	-.105	1	-.154	-.105	.207	-.237	-.154	-.196	-.237	-.154	-.105	-.154
	Sig. (2-tailed)			.												
	N	15	15	15	15	15	15	15	15	15	15	15	15	15	15	15

	Sig. (2-tailed)	.396	.710	.	.710		.584	.710	.459	.396	.584	.484	.396	.584	.710	.584
	N	15	15	15	15	15	15	15	15	15	15	15	15	15	15	15
p6	Pearson Correlation	.207	.681**	.a	-.105	-.154	1	-.105	.207	.207	-.154	.294	.207	.423	-.105	1.000**
	Sig. (2-tailed)	.459	.005	.	.710	.584		.710	.459	.459	.584	.287	.459	.116	.710	.000
	N	15	15	15	15	15	15	15	15	15	15	15	15	15	15	15
p7	Pearson Correlation	-.161	-.071	.a	-.071	-.105	-.105	1	-.161	-.161	.681**	-.134	-.161	-.105	-.071	-.105
	Sig. (2-tailed)	.566	.800	.	.800	.710	.710		.566	.566	.005	.635	.566	.710	.800	.710
	N	15	15	15	15	15	15	15	15	15	15	15	15	15	15	15
p8	Pearson Correlation	-.023	-.161	.a	-.161	.207	.207	-.161	1	.659**	-.237	.452	.318	.207	-.161	.207
	Sig. (2-tailed)	.936	.566	.	.566	.459	.459	.566		.008	.396	.091	.248	.459	.566	.459
	N	15	15	15	15	15	15	15	15	15	15	15	15	15	15	15
p9	Pearson Correlation	-.023	-.161	.a	-.161	-.237	.207	-.161	.659**	1	-.237	.452	.318	.207	-.161	.207
	Sig. (2-tailed)	.936	.566	.	.566	.396	.459	.566	.008		.396	.091	.248	.459	.091	.459
	N	15	15	15	15	15	15	15	15	15	15	15	15	15	15	15
p10	Pearson Correlation	.207	-.105	.a	-.105	-.154	-.154	.681**	-.237	-.237	1	-.196	-.237	-.154	-.105	-.154
	Sig. (2-tailed)			.												
	N															

	Sig. (2-tailed)	.459	.710	.	.710	.584	.584	.005	.396	.396		.484	.396	.584	.710	.584
	N	15	15	15	15	15	15	15	15	15	15	15	15	15	15	15
p11	Pearson Correlation	.452	.535*	. ^a	-.134	-.196	.294	-.134	.452	.452	-.196	1	.075	.784**	.13	.294
	Sig. (2-tailed)	.091	.040	.	.635	.484	.287	.635	.091	.091	.484		.789	.001	.63	.287
	N	15	15	15	15	15	15	15	15	15	15	15	15	15	15	15
p12	Pearson Correlation	-.023	-.161	. ^a	-.161	-.237	.207	-.161	.318	.318	-.237	.075	1	.207	.16	.207
	Sig. (2-tailed)	.936	.566	.	.566	.396	.459	.566	.248	.248	.396	.789		.459	.56	.459
	N	15	15	15	15	15	15	15	15	15	15	15	15	15	15	15
p13	Pearson Correlation	.650**	.681**	. ^a	-.105	-.154	.423	-.105	.207	.207	-.154	.784**	.207	1	.10	.423
	Sig. (2-tailed)	.009	.005	.	.710	.584	.116	.710	.459	.459	.584	.001	.459		.71	.116
	N	15	15	15	15	15	15	15	15	15	15	15	15	15	15	15
p14	Pearson Correlation	-.161	-.071	. ^a	-.071	-.105	-.105	-.071	-.161	.443	-.105	-.134	-.161	-.105	1	.105
	Sig. (2-tailed)	.566	.800	.	.800	.710	.710	.800	.566	.098	.710	.635	.566	.710		.710
	N	15	15	15	15	15	15	15	15	15	15	15	15	15	15	15
p15	Pearson Correlation	.207	.681**	. ^a	-.105	-.154	1.000**	-.105	.207	.207	-.154	.294	.207	.423	.10	.423
	Sig. (2-tailed)			.												
	N															

	Sig. (2-tailed)	.459	.005	.	.710	.584	.000	.710	.459	.459	.584	.287	.459	.116	.710	
	N	15	15	15	15	15	15	15	15	15	15	15	15	15	15	15
p16	Pearson Correlation	.452	-.134	. ^a	-.134	-.196	-.196	-.134	.452	.452	.294	.583*	.075	.294	.134	-.196
	Sig. (2-tailed)	.091	.635	.	.635	.484	.484	.635	.091	.091	.287	.022	.789	.287	.635	.484
	N	15	15	15	15	15	15	15	15	15	15	15	15	15	15	15
p17	Pearson Correlation	.650**	.681**	. ^a	-.105	-.154	.423	-.105	.207	.207	-.154	.784**	.207	1.000**	.105	-.423
	Sig. (2-tailed)	.009	.005	.	.710	.584	.116	.710	.459	.459	.584	.001	.459	.000	.710	.116
	N	15	15	15	15	15	15	15	15	15	15	15	15	15	15	15
p18	Pearson Correlation	-.161	-.071	. ^a	-.071	-.105	-.105	-.071	.443	.443	-.105	.535*	-.161	-.105	.071	-.105
	Sig. (2-tailed)	.566	.800	.	.800	.710	.710	.800	.098	.098	.710	.040	.566	.710	.800	.710
	N	15	15	15	15	15	15	15	15	15	15	15	15	15	15	15
p19	Pearson Correlation	-.161	-.071	. ^a	-.071	-.105	-.105	-.071	-.161	-.161	-.105	-.134	.443	-.105	.071	-.105
	Sig. (2-tailed)	.566	.800	.	.800	.710	.710	.800	.566	.566	.710	.635	.098	.710	.800	.710
	N	15	15	15	15	15	15	15	15	15	15	15	15	15	15	15
p20	Pearson Correlation	-.161	-.071	. ^a	-.071	-.105	-.105	-.071	-.161	-.161	-.105	-.134	.443	-.105	.071	-.105

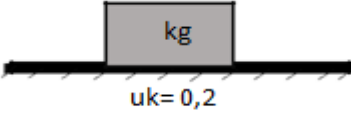
	Sig. (2-tailed)	.566	.800	.	.800	.710	.710	.800	.566	.566	.710	.635	.098	.710	.800	.710
	N	15	15	15	15	15	15	15	15	15	15	15	15	15	15	15
Skor	Pearson Correlation	.511	.479	. ^a	-.195	-.203	.538*	-.082	.574*	.574*	-.038	.826**	.384	.786**	-.082	.538*
	Sig. (2-tailed)	.052	.071	.	.487	.467	.038	.770	.025	.025	.892	.000	.157	.001	.770	.038
	N	15	15	15	15	15	15	15	15	15	15	15	15	15	15	15

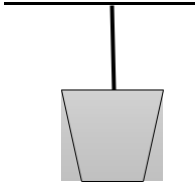
Reliability Statistics

Cronbach's Alpha	N of Items
.763	8

LAMPIRAN VI

No	Soal
1.	<p>Arah gaya gesek ketika seseorang berdiri dan dalam keadaan diam adalah..</p> <p>A. ke depan B. ke belakang C. ke samping D. tidak memiliki arah</p> <p>Alasan Jawaban:</p> <p>a. tidak ada gaya yang mempengaruhi. b. tidak memiliki koefisien gaya gesek. c. tidak memiliki gaya normal. d. tidak memiliki gaya gesek.</p> <p>Tingkat keyakinan jawaban dan alasan jawaban:</p> <p>1. Sangat tidak yakin 2. Tidak yakin 3. Yakin 4. Sangat yakin</p>
2.	<p>Jika resultan gaya yang bekerja pada sebuah benda sama dengan nol, maka:</p> <p>i benda bergerak dengan kecepatan konstan ii benda diam iii perubahan kecepatan nol iv benda bergerak lurus berubah beraturan</p> <p>A. i, ii, dan iii B. i dan iii C. ii dan iv D. iv saja</p> <p>Alasan jawaban:</p> <p>a. hukum I Newton: benda akan cenderung diam atau bergerak lurus tidak beraturan dengan percepatan konstan. b. hukum I Newton: benda akan cenderung diam atau bergerak lurus beraturan dengan kecepatan konstan. c. hukum I Newton: benda akan cenderung diam dan bergerak lurus dengan kecepatan konstan. d. hukum I Newton: benda akan cenderung diam dan bergerak lurus dengan percepatan konstan.</p> <p>Tingkat keyakinan jawaban dan alasan jawaban:</p> <p>1. Sangat tidak yakin 2. Tidak yakin 3. Yakin 4. Sangat yakin</p>

<p>3.</p>	<p>Perhatikan gambar berikut!</p>  <p>Besar gaya gesek kinetis yang bekerja pada gambar tersebut adalah. . . .</p> <p>A. 20 N ke kanan B. 20 N ke kiri C. 1 N ke kanan D. 0 N tidak memiliki arah</p> <p>Alasan jawaban:</p> <p>a. karena benda dalam keadaan diam b. karena benda memiliki koefisien gaya gesek c. karena lantai memiliki koefisien gaya gesek d. karena benda dan lantai bersentuhan</p> <p>Tingkat keyakinan jawaban dan alasan jawaban:</p> <p>1.Sangat tidak yakin 2.Tidak yakin 3.Yakin 4.Sangat yakin</p>
<p>4.</p>	<p>Mobil melaju dengan kecepatan tinggi, kemudian menabrak tiang listrik. Besar gaya yang bekerja pada kedua benda tersebut adalah. . . .</p> <p>A. gaya yang diberikan mobil lebih kecil daripada yang diberikan tiang B. gaya yang diberikan mobil lebih besar daripada yang diberikan tiang C. gaya yang diberikan kedua benda memiliki resultan bernilai nol D. gaya yang diberikan kedua benda sama</p> <p>Alasan jawaban:</p> <p>a. peristiwa tersebut menggambarkan berlakunya hukum I Newton b. peristiwa tersebut menggambarkan berlakunya hukum II Newton c. peristiwa tersebut menggambarkan berlakunya hukum III Newton d. peristiwa tersebut menggambarkan berlakunya hukum I Newton, II Newton, dan III Newton</p> <p>Tingkat keyakinan jawaban dan alasan jawaban:</p> <p>1. Sangat tidak yakin 2. Tidak yakin</p>

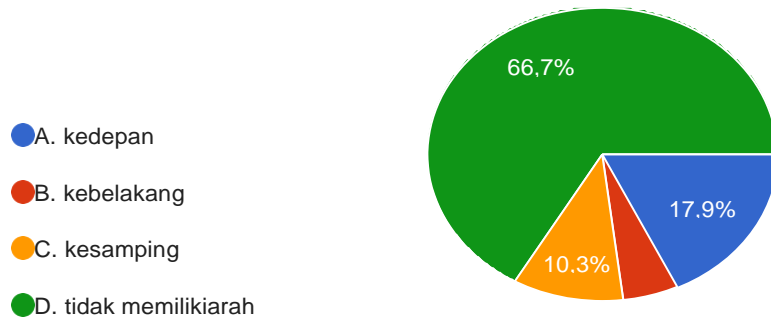
	<p>3. Yakin</p> <p>4. Sangat yakin</p>
5.	<p>Sebuah timba yang berisi air bermassa 5 kg di gantung dengan tali seperti gambar berikut:</p>  <p>Apabila percepatan gravitasi bumi $10ms^{-2}$ dan benda bergerak kebawah dengan percepatan $0,2ms^{-2}$, nilai gaya tegang tali pada sistem tersebut adalah</p> <p>A. 49 N B. 50 N C. 51 N D. 101 N</p> <p>Alasan jawaban</p> <p>a. $T = W$ b. $T = m.a + w$ c. $T = w - m.a$ d. $T = m. (a+g) + w$</p> <p>Tingkat keyakinan jawaban dan alasan jawaban:</p> <p>1. Sangat tidak yakin 2. Tidak yakin 3. Yakin 4. Sangat yakin</p>
6.	<p>Muslimah berada di dalam lift yang bergerak ke atas dengan percepatan $0,4ms^{-2}$. Jika massa Muslimah 40 kg dan percepatan gravitasinya $10ms^{-2}$, maka gaya normal (N) yang bekerja pada Muslimah adalah</p> <p>A. 384 N B. 400 N C. 416 N D. 1000 N</p> <p>Alasan Jawaban</p> <p>a. $N = \frac{m.g}{a} = 1000 \text{ N}$ b. $N = w - m.a = 384 \text{ N}$ c. $N = w = 400 \text{ N}$ d. $N = w + m.a = 416$</p> <p>Tingkat keyakinan jawaban dan alasan jawaban:</p> <p>1. Sangat tidak yakin</p>

	<p>2. Tidak yakin</p> <p>3. Yakin</p> <p>4. Sangat yakin</p>
7.	<p>Apabila percepatan gravitasi bumi 10ms^{-2}, $\sin 30^\circ = 0,5$ dan $\cos 30^\circ = 0,87$. Besar gaya normal pada gambar tersebut adalah .</p> <p>A. 20 N</p> <p>B. 27,4 N</p> <p>C. 30 N</p> <p>D. 40 N</p> <p>Alasan Jawaban</p> <p>a. $N = w + F_2 \sin 30^\circ - F_1 = 20 \text{ N}$</p> <p>b. $N = F_1 - w - F_2 \sin 30^\circ = 30 \text{ N}$</p> <p>c. $N = w + F_2 \sin 30^\circ - F_1 = 27,4 \text{ N}$</p> <p>d. $N = F_1 - w - F_2 \sin 30^\circ = 40 \text{ N}$</p> <p>Tingkat keyakinan jawaban dan alasan jawaban:</p> <p>1. Sangat tidak yakin</p> <p>2. Tidak yakin</p> <p>3. Yakin</p> <p>4. Sangat yakin</p>
8.	<p>Benda bermassa 3 kg diletakkan pada suatu tempat di bumi yang memiliki percepatan gravitasi sebesar 10ms^{-2}. Berat benda tersebut adalah. . . .</p> <p>A. 3 N</p> <p>B. 3,3 N</p> <p>C. 10 N</p> <p>D. 30 N</p> <p>Alasan jawaban</p> <p>a. $w = m \cdot g$</p> <p>b. $w = N$</p> <p>c. $m = \frac{w}{g}$</p> <p>d. $g = \frac{w}{m}$</p> <p>Tingkat keyakinan jawaban dan alasan jawaban:</p> <p>1. Sangat tidak yakin</p> <p>2. Tidak yakin</p> <p>3. Yakin</p> <p>4. Sangat yakin</p>

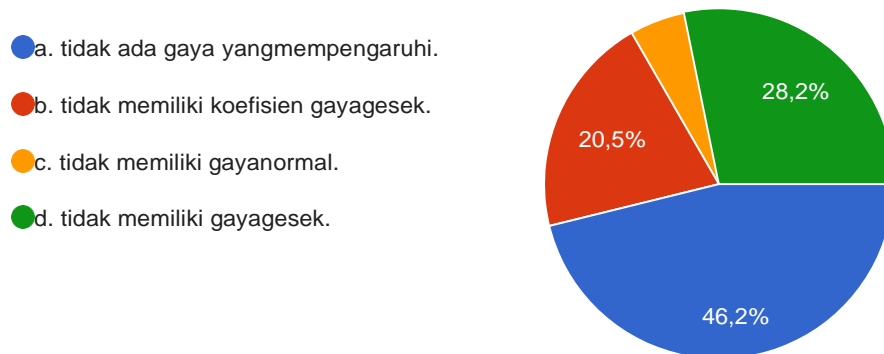
LAMPIRAN VII

Hasil Jawaban Tes Mahasiswa

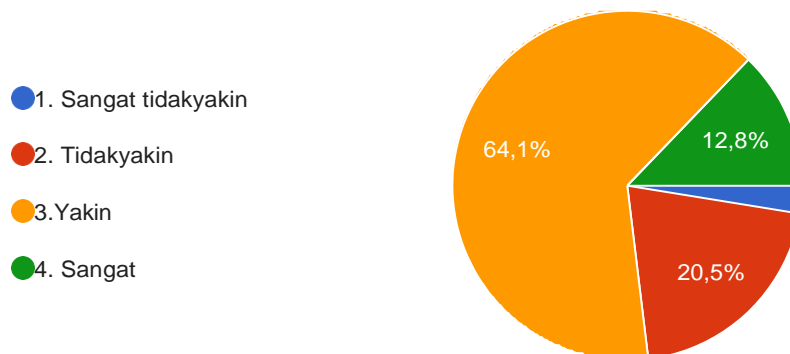
Arah gaya gesek ketika seseorang berdiri dan dalam keadaan diam adalah



Alasan jawaban

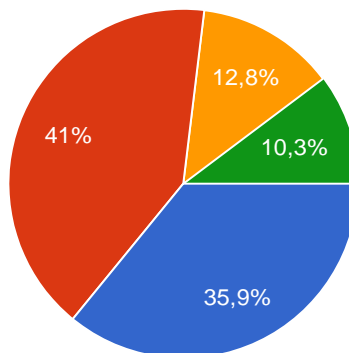


Tingkat keyakinan jawaban dan alasan jawaban:

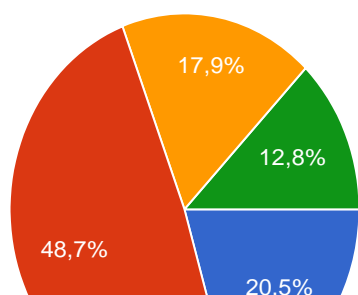


Jika resultan gaya yang bekerja pada sebuah benda sama dengan nol, maka: (i) benda bergerak dengan kecepatan konstan (ii) benda diam (iii) perubahan kecepatan nol (iv) benda bergerak lurus berubah beraturan

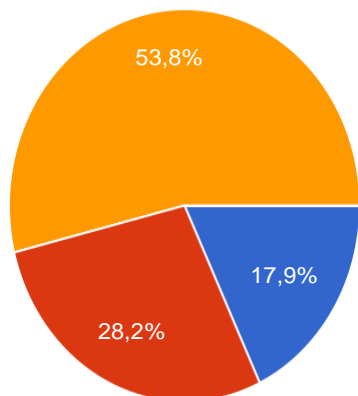
- A. i, ii, dan iii
- B. i dan iii
- C. ii dan iv
- D. iv saja



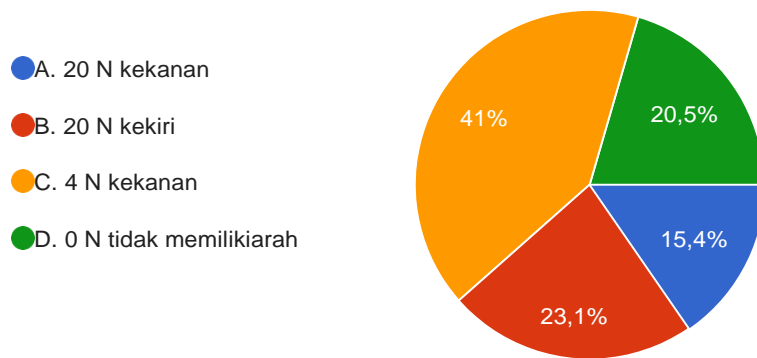
alasan jawaban



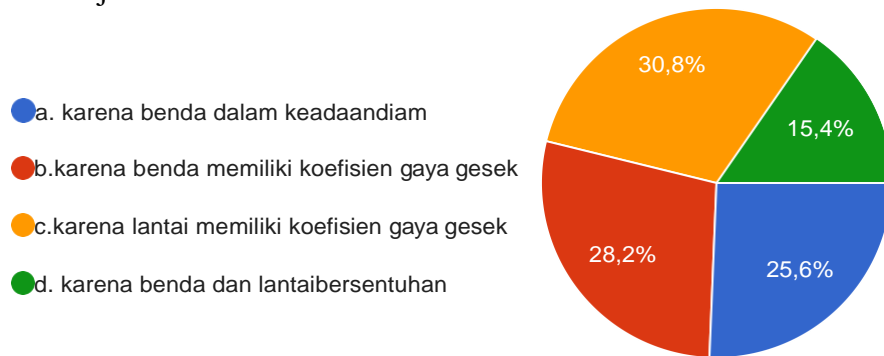
- a. hukum I Newton: benda akan cenderung diam atau bergerak lurus tidak beraturan dengan percepatan konstan...
- b. hukum I Newton: benda akan cenderung diam atau bergerak lurus beraturan dengan kecepatan konstan.
- c. hukum I Newton: benda akan cenderung diam dan bergerak lurus...
- 1 Sangat tidak yakin
- 2 Tidak yakin
- 3 Yakin
- 4 Sangat yakin



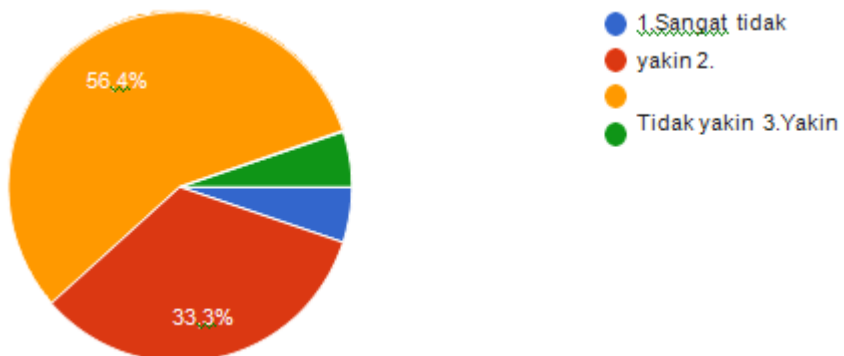
Besar gaya gesek kinetis yang bekerja pada gambar tersebut adalah.



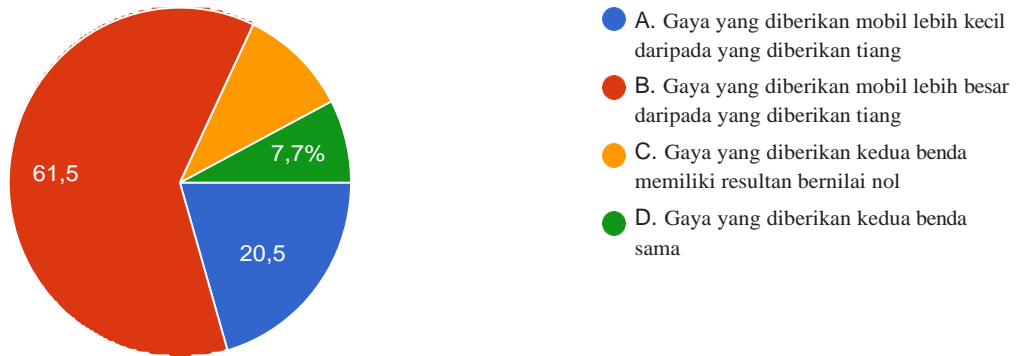
alasan jawaban



Tingkat keyakinan jawaban dan alasan jawaban:

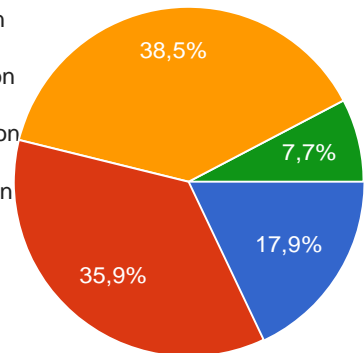


Mobil melaju dengan kecepatan tinggi, kemudian menabrak tiang listrik. Besar gaya yang bekerja pada kedua benda tersebut adalah



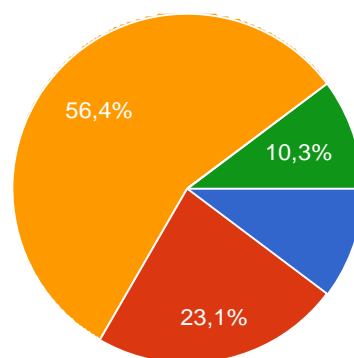
Alasan jawaban

- a. peristiwa tersebut menggambarkan berlakunya hukum I Newton
- b. peristiwa tersebut menggambarkan berlakunya hukum II Newton
- c. peristiwa tersebut menggambarkan berlakunya hukum III Newton
- d. peristiwa tersebut menggambarkan berlakunya hukum I Newton III Newton.



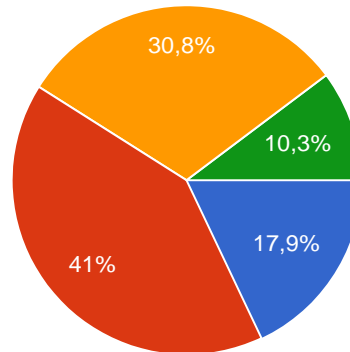
Tingkat keyakinan jawaban dan alasan jawaban

- 1 Sangat tidak yakin
- 2 Tidak yakin
- 3 Yakin
- 4 Sangat yakin



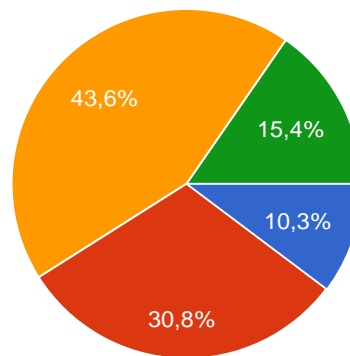
Sebuah timba yang berisi air bermassa 5 kg di gantung dengan tali seperti gambar berikut: Apabila percepatan gravitasi bumi 10 [ms]^{-2} dan benda bergerak kebawah dengan percepatan $0,2 \text{ [ms]}^{-2}$, nilai gaya tegang tali pada sistem tersebut adalah 39 tanggapan

- A. 49N
- B. 50N
- C. 51N
- D. 101N



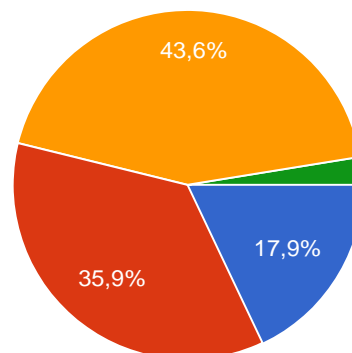
Alasan jawaban

- a. $T = W$
- b. $T = m \cdot a + w$
- c. $T = w - m \cdot a$
- d. $T = m \cdot (a + g) + w$



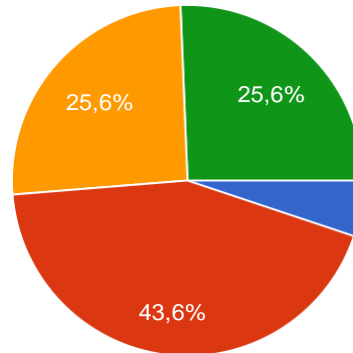
Tingkat keyakinan jawaban dan alasan jawaban:

- 1. Sangat tidak yakin
- 2. Tidak yakin
- 3. Yakin
- 4. Sangat yakin



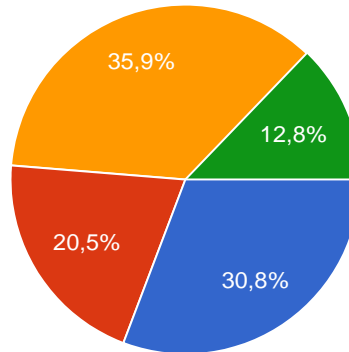
Muslimah berada di dalam lift yang bergerak ke atas dengan percepatan $0,4 \text{ ms}^{-2}$. Jika massa Muslimah 40 kg dan percepatan gravitasinya 10 ms^{-2} , maka gaya normal (N) yang bekerja pada Muslimah adalah

- A. 384N
- B. 400N
- C. 416N
- D. 1000N



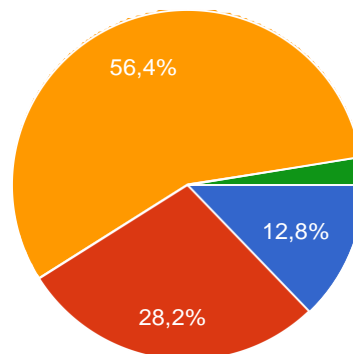
Alasan jawaban

- a. $N = m.g/a = 1000 \text{ N}$
- b. $N = w - m.a = 384\text{N}$
- c. $N = w = 400\text{N}$
- d. $N = w + m.a = 4$



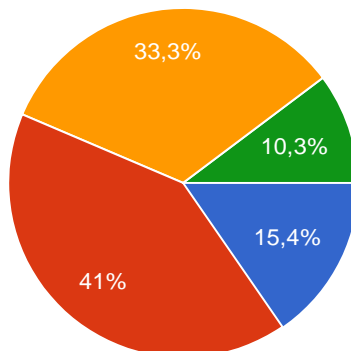
Tingkat keyakinan jawaban dan alasan jawaban:

- 1. Sangat tidakyakin
- 2. Tidakyakin
- 3. Yakin
- 4. Sangat yakin



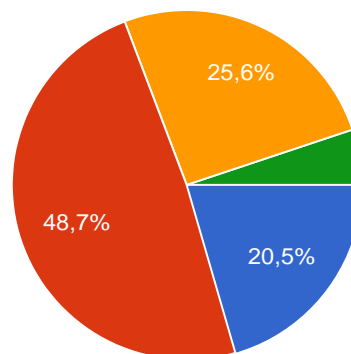
Apabila percepatan gravitasi bumi 10 ms^{-2} , $\sin 30^\circ = 0,5$ dan $\cos 30^\circ = 0,87$. Besar gaya normal pada gambar tersebut adalah.

- A. 20N
- B. 27,4N
- C. 30N
- D. 40N



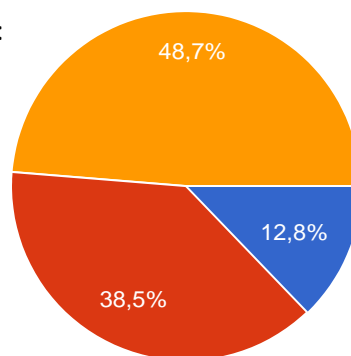
Alasan jawaban

- a. $N = w + F_2 \sin 30^\circ - F_1 = 20 \text{ N}$
- b. $N = F_1 - w - F_2 \sin 30^\circ = 30 \text{ N}$
- c. $N = w + F_2 \sin 30^\circ - F_1 = 27,4 \text{ N}$
- d. $N = F_1 - w - F_2 \sin 30^\circ = 40 \text{ N}$



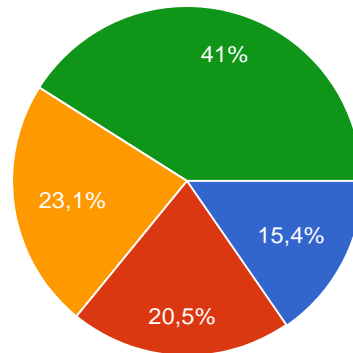
Tingkat keyakinan jawaban dan alasan jawaban:

- 1. Sangat tidak yakin
- 2. Tidak yakin
- 3. Yakin
- 4. Sangat yakin

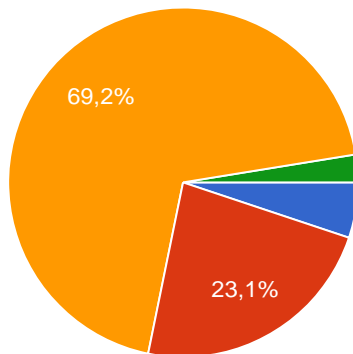
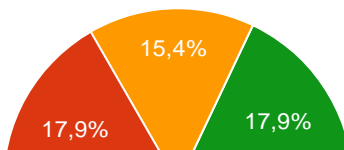


Benda bermassa 3 kg diletakkan pada suatu tempat di bumi yang memiliki percepatan gravitasi sebesar 10ms^{-2} . Berat benda tersebut adalah

- A. 3N
- B. 3,3N
- C. 10N
- D. 30N



Alasan jawaban



- a. $w = m \cdot g$
- b. $w = N$
- c.
- d.
- 1. Sangat tidakyakin
- 2. Tidakyakin
- 3. Yakin
- 4. Sangatyakin

RIWAYAT HIDUP PENULIS

1. Nama Lengkap : Supiyani
2. Tempat dan Tanggal Lahir : Banjarmasin, 28 April 1997
3. Agama : Islam
4. Kebangsaan : Indonesia
5. Jenis Kelamin : Perempuan
6. Status Perkawinan : Menikah
7. Alamat : Jl AES Nasution gg karang dukuh rt
15 no 20
8. Pendidikan
 - a. SDN Gadang 2 Banjarmasin, tahun lulus 2009
 - b. SMPN 10 Banjarmasin, tahun lulus 2012
 - c. MAN 1 Banjarmasin, tahun lulus 2015
9. Orang Tua

Ayah

Nama	: Su'ie
Pekerjaan	: -
Alamat	: Jl AES Nasution gg karang dukuh rt 15 no 20 Kel. Gadang, Kec. Banjarmasin Tengah, Kab/Kota Banjarmasin

Ibu

Nama	: hosniyah
Pekerjaan	: pembantu Rumah Tangga
Alamat	: Jl AES Nasution gg karang dukuh rt 15 no 20 Kel. Gadang, Kec. Banjarmasin Tengah, Kab/Kota Banjarmasin
10. Anak
ke/Saudara : 3/ tiga orang

Banjarmasin, juni 2021

Supiyani