

Lampiran 1 Daftar Terjemah

No	Bab	Kutipan	Hal	Terjemah
1	1	Q.S.Ibrahim: 52	6	“Dan (Al-Qur'an) ini adalah penjelasan (yang sempurna) bagi manusia, agar mereka diberi peringatan dengannya, agar mereka mengetahui bahwa Dia adalah Tuhan Yang Maha Esa dan agar orang yang berakal mengambil pelajaran”.

Lampiran 2 Daftar Nama Peserta Didik Kelas V MI Nahdatussibyan

No	Nama
1.	Ayira
2.	Firda Yutari
3.	Hapijah
4.	Laina Askiya
5.	M. Praguna
6.	M. Muhaimin
7.	Muhammad Latif
8.	Muhammad Rayhan
9.	Nadia
10.	Nazla Aira
11.	Nor Ain Hayati
12.	Patmah
13.	Siti Khadijah
14.	Wafi Azizah Azahra

Lampiran 3 Analisis Data *Pretest/Posttest* Matematika (Operasi Hitung Bilangan Bulat)

Nama :
Kelas :

1. Ibu Firda memiliki lima buah plastik, masing-masing plastik berisi lima butir telur. Jika disetiap plastik terdapat dua butir telur yang pecah, maka berapakah jumlah semua telur yang pecah?
2. Guna memiliki 15 butir permen, semua permen akan dibagikan kepada lima temannya sama rata. Berapakah banyak permen yang akan diterima temannya?
3. Titi memiliki uang Rp.10.000. Uang itu akan ia gunakan untuk membeli 2 buah buku, 1 pulpen dan 1 penghapus. Masing-masing harganya adalah: buku = 2.500, pulpen= 1.500, dan penghapus 1.000, berapakah sisa uang yang dimiliki Titi?
4. Sebuah suhu ruangan mula-mula 17° C, setelah siang hari suhunya naik sebesar 6° C. Dan pada malam hari suhu di ruangan tersebut turun sebesar 8° C. Maka berapakah suhu ruangan tersebut sekarang?
5. Pak Rayhan memiliki 15 lembar kertas warna. Semua kertas akan dibagikan kepada ketiga anaknya sama banyak. Maka berapakah jumlah kertas setiap anak yang ia dapatkan?
6. Imin memiliki uang Rp. 20.000. Uang itu akan ia gunakan untuk membeli beras 2,5 kg. Ternyata harga beras per kilonya adalah Rp.10.000. Mengingat jarak antara rumah Imin dan toko beras sangat jauh, akhirnya Imin memutuskan untuk berutang dahulu terkait kekurangannya. Berapakah hutang yang Imin miliki?
7. Pak Latif membeli 3 dus wafer. Setiap dus berisi 20 wafer, maka berapakah banyak wafer seluruhnya?
8. Pada hari Minggu, ibu Ijah berbelanja ke pasar. Ia membeli 6 kg apel. 1 kg apel bersisi 10 buah. Apel tersebut akan dimasukkan pada 3 kantong plastik dengan isi sama banyak. Maka berapakah banyak apel tiap kantong plastik?
9. Suhu sebuah kota satu bulan lalu adalah -5° C. Kini suhunya naik 26° C. Maka berapakah suhu kota tersebut sekarang?
10. Azizah ingin bermain kelereng, ia meminjam kelereng kepada Aira sebanyak 5 butir, ternyata Azizah menang 20 kelereng. Maka berapakah jumlah kelereng Azizah sekarang?

Lampiran 4 Lembar Validasi Instrumen Tes

91

Lampiran 4 Lembar Validasi Instrumen Tes

Petunjuk:

1. Lembar validasi ini bertujuan untuk mengetahui kevalidan angket
2. Sehubungan dengan hal tersebut, Ibu/bapak diharapkan dapat memberikan tanda cek (✓) pada kolom skor sesuai dengan kriteria berikut:
 - Skor 2: jika ada kesesuaian antar isi butir tes dengan jenis pemahaman yang ingin diukur dan kalimat yang digunakan komunikatif.
 - Skor 1: jika ada kesesuaian antar isi butir tes dengan jenis pemahaman tetapi kalimat yang digunakan tidak komunikatif atau sebaliknya.
 - Skor 0: jika tidak ada kesesuaian antar isi butir tes dengan jenis pemahaman yang ingin diukur dan kalimat yang digunakan tidak komunikatif.

No. Soal	Skor			Saran
	2	1	0	
1.	✓			Valid
2.	✓			Valid
3.	✓			Valid
4.	✓			Valid
5.	✓			Valid
6.	✓			Valid
7.	✓			Valid
8.	✓			Valid
9.	✓			Valid
10.	✓			Valid
Presentase				

Catatan:

Tamban, Oktober 2022

Validator

Norlatifah, S.Pd.

Lampiran 5 Pedoman Dokumentasi

Daftar Ceklis Dokumen :

Nama Sekolah :

Alamat Sekolah :

Hari/Tanggal Dokumentasi :

No	Jenis Dokumen	Ada	Tidak
1	Dokumen tentang sejarah berdirinya MI Nahdatussibyan		
2	Dokumen tentang visi, misi, dan tujuan MI Nahdatussibyan		
3	Dokumen tentang sarana dan prasarana yang ada di MI Nahdatussibyan		
4	Dokumen tentang keadaan guru MI Nahdatussibyan		
5	Dokumen tentang keadaan peserta didik siswi kelas V MI Nahdatussibyan		


Lampiran 6 Analisis Data *Pretest* Matematika (Operasi Hitung Bilangan Bulat)

No	Nama	Item jawaban										Skor
		1	2	3	4	5	6	7	8	9	10	
1	Ayira	0	10	10	0	10	0	10	0	0	0	40
2	Firda Yutari	0	10	0	0	0	0	0	0	0	0	10
3	Hapijah	0	10	10	10	0	10	10	0	10	0	60
4	Laina Askiya	0	10	10	10	0	10	10	0	0	0	50
5	M. Praguna	0	10	0	10	0	10	0	0	0	0	30
6	M. Muhaimin	10	10	0	0	0	0	0	0	10	0	30
7	Muhammad Latif	0	10	10	10	0	0	0	0	0	0	30
8	Muhammad Rayhan	0	10	10	10	0	0	0	0	10	0	50
9	Nadia	0	10	10	0	0	0	0	0	0	0	20
10	Nazla Aira	0	10	10	10	0	0	0	0	10	0	40
11	Nor Ain Hayati	0	10	10	10	0	10	10	0	0	0	50
12	Patmah	0	10	0	10	0	10	0	0	10	0	60
13	Siti Khadijah	10	10	0	0	0	0	0	0	10	0	30
14	Wafi Azizah Azahra	0	0	0	0	0	0	10	0	0	0	10
Jumlah		20	130	90	80	10	50	70	0	60	0	500

Lampiran 7 Analisis Data Pretest Matematika (Operasi Hitung Bilangan Bulat)

Nama: Ayika

1. Ibu Firda memiliki lima buah plastik, masing-masing plastik berisi lima butir telur. Jika disetiap plastik terdapat dua butir telur yang pecah, maka berapakah jumlah semua telur yang pecah? $35 \times$
2. Guna memiliki 15 butir permen, semua permen akan dibagikan kepada lima temannya sama rata. Berapakah banyak permen yang akan diterima temannya? $13 \checkmark$
3. Titi memiliki uang Rp.10.000. Uang itu akan ia gunakan untuk membeli 2 buah buku, 1 pulpen dan 1 penghapus. Masing-masing harganya adalah: buku = 2.500, pulpen = 1.500, dan penghapus 1.000, berapakah sisa uang yang dimiliki Titi? $2500 \checkmark$
4. Sebuah suhu ruangan mula-mula $17^{\circ}C$, setelah siang hari suhunya naik sebesar $6^{\circ}C$. Dan pada malam hari suhu di ruangan tersebut turun sebesar $8^{\circ}C$. Maka berapakah suhu ruangan tersebut sekarang? 9
5. Pak Rayhan memiliki 16 lembar kertas warna. Semua kertas akan dibagikan kepada ketiga anaknya sama banyak. Maka berapakah jumlah kertas setiap anak yang ia dapatkan? $5 \checkmark$
6. Imin memiliki uang Rp. 20.000. Uang itu akan ia gunakan untuk membeli beras 2,5 kg. Ternyata harga beras per kilonya adalah Rp.10.000. Mengingat jarak antara rumah Imin dan toko beras sangat jauh, akhirnya Imin memutuskan untuk berutang dahulu terkait kekurangannya. Berapakah hutang yang Imin miliki? 2000
7. Pak Latif membeli 3 dus wafer. Setiap dus berisi 20 wafer, maka berapakah banyak wafer seluruhnya? $60 \checkmark$
8. Pada hari Minggu, ibu Ijah berbelanja ke pasar. Ia membeli $\frac{1}{2}$ kg apel. 1 kg apel berisi 10 buah. Apel tersebut akan dimasukkan pada 3 kantong plastik dengan isi sama banyak. Maka berapakah banyak apel tiap kantong plastik? $30 \times$
9. Suhu sebuah kota satu bulan lalu adalah $-5^{\circ}C$. Kini suhunya naik $26^{\circ}C$. Maka berapakah suhu kota tersebut sekarang? $26^{\circ}C$
10. Azizah ingin bermain kelereng, ia meminjam kelereng kepada Aira sebanyak 5 butir, ternyata Azizah menang 20 kelereng. Maka berapakah jumlah kelereng Azizah sekarang? 25



Nama : Firda Yuliani

1. Ibu Firda memiliki lima buah plastik, masing-masing plastik berisi lima butir telur. Jika disetiap plastik terdapat dua butir telur yang pecah, maka berapakah jumlah semua telur yang pecah? $8 \times$
2. Guna memiliki 15 butir permen, semua permen akan dibagikan kepada lima temannya sama rata. Berapakah banyak permen yang akan diterima temannya? $3 \checkmark$
3. Titi memiliki uang Rp.10.000. Uang itu akan ia gunakan untuk membeli 2 buah buku, 1 pulpen dan 1 penghapus. Masing-masing harganya adalah: buku = 2.500, pulpen = 1.500, dan penghapus 1.000, berapakah sisa uang yang dimiliki Titi? $7.500 \times$
4. Sebuah suhu ruangan mula-mula 17°C , setelah siang hari suhunya naik sebesar 6°C . Dan pada malam hari suhu di ruangan tersebut turun sebesar 8°C . Maka berapakah suhu ruangan tersebut sekarang? $19 \times$
5. Pak Rayhan memiliki 16 lembar kertas warna. Semua kertas akan dibagikan kepada ketiga anaknya sama banyak. Maka berapakah jumlah kertas setiap anak yang ia dapatkan? $4 \times$
6. Imin memiliki uang Rp. 20.000. Uang itu akan ia gunakan untuk membeli beras 2,5 kg. Ternyata harga beras per kilonya adalah Rp.10.000. Mengingat jarak antara rumah Imin dan toko beras sangat jauh, akhirnya Imin memutuskan untuk berutang dahulu terkait kekurangannya. Berapakah hutang yang Imin miliki?
7. Pak Latif membeli 3 dus wafer. Setiap dus berisi 20 wafer, maka berapakah banyak wafer seluruhnya? $13 \times$
8. Pada hari Minggu, ibu Ijah berbelanja ke pasar. Ia membeli 6 kg apel. 1 kg apel bersisi 10 buah. Apel tersebut akan dimasukkan pada 3 kantong plastik dengan isi sama banyak. Maka berapakah banyak apel tiap kantong plastik? \times
9. Suhu sebuah kota satu bulan lalu adalah -5°C . Kini suhunya naik 26°C . Maka berapakah suhu kota tersebut sekarang? $10 \times$
10. Azizah ingin bermain kelereng, ia meminjam kelereng kepada Aira sebanyak 5 butir, ternyata Azizah menang 20 kelereng. Maka berapakah jumlah kelereng Azizah sekarang? $19 \times$

10

Nama : *Hadijah*

1. Ibu Firda memiliki lima buah plastik, masing-masing plastik berisi lima butir telur. Jika disetiap plastik terdapat dua butir telur yang pecah, maka berapakah jumlah semua telur yang pecah? *3 butir telur*
2. Guna memiliki 15 butir permen, semua permen akan dibagikan kepada lima temannya sama rata. Berapakah banyak permen yang akan diterima temannya? *3* ✓
3. Titi memiliki uang Rp.10.000. Uang itu akan ia gunakan untuk membeli 2 buah buku, 1 pulpen dan 1 penghapus. Masing-masing harganya adalah: buku = 2.500, pulpen = 1.500, dan penghapus 1.000, berapakah sisa uang yang dimiliki Titi? *2.500* ✓
4. Sebuah suhu ruangan mula-mula 17°C , setelah siang hari suhunya naik sebesar 6°C . Dan pada malam hari suhu di ruangan tersebut turun sebesar 8°C . Maka berapakah suhu ruangan tersebut sekarang? *15°C* ✓
5. Pak Rayhan memiliki 18 lembar kertas warna. Semua kertas akan dibagikan kepada ketiga anaknya sama banyak. Maka berapakah jumlah kertas setiap anak yang ia dapatkan? *6*
6. Imin memiliki uang Rp. 20.000. Uang itu akan ia gunakan untuk membeli beras 2,5 kg. Ternyata harga beras per kilonya adalah Rp.10.000. Mengingat jarak antara rumah Imin dan toko beras sangat jauh, akhirnya Imin memutuskan untuk berutang dahulu terkait kekurangannya. Berapakah hutang yang Imin miliki? *5.000* ✓
7. Pak Latif membeli 3 dus wafer. Setiap dus berisi 20 wafer, maka berapakah banyak wafer seluruhnya? *60* ✓
8. Pada hari Minggu, ibu Ijah berbelanja ke pasar. Ia membeli 6 kg apel. 1 kg apel berisi 10 buah. Apel tersebut akan dimasukkan pada 3 kantong plastik dengan isi sama banyak. Maka berapakah banyak apel tiap kantong plastik? *17*
9. Suhu sebuah kota satu bulan lalu adalah -5°C . Kini suhunya naik 26°C . Maka berapakah suhu kota tersebut sekarang? *21* ✓
10. Azizah ingin bermain kelereng, ia meminjam kelereng kepada Aira sebanyak 5 butir, ternyata Azizah menang 20 kelereng. Maka berapakah jumlah kelereng Azizah sekarang? *20*

60



Nama: Laina Aswya

1. Ibu Firda memiliki lima buah plastik, masing-masing plastik berisi lima butir telur. Jika disetiap plastik terdapat dua butir telur yang pecah, maka berapakah jumlah semua telur yang pecah? 15 butir telur x
2. Guna memiliki 15 butir permen, semua permen akan dibagikan kepada lima temannya sama rata. Berapakah banyak permen yang akan diterima temannya? 3 buah permen ✓
3. Titi memiliki uang Rp.10.000. Uang itu akan ia gunakan untuk membeli 2 buah buku, 1 pulpen dan 1 penghapus. Masing-masing harganya adalah: buku = 2.500, pulpen = 1.500, dan penghapus 1.000, berapakah sisa uang yang dimiliki Titi? 5.000 ✓
4. Sebuah suhu ruangan mula-mula 17°C , setelah siang hari suhunya naik sebesar 6°C . Dan pada malam hari suhu di ruangan tersebut turun sebesar 8°C . Maka berapakah suhu ruangan tersebut sekarang? 15°C , ✓
5. Pak Rayhan memiliki 12 lembar kertas warna. Semua kertas akan dibagikan kepada ketiga anaknya sama banyak. Maka berapakah jumlah kertas setiap anak yang ia dapatkan? 4 x
6. Imin memiliki uang Rp. 20.000. Uang itu akan ia gunakan untuk membeli beras 2,5 kg. Ternyata harga beras per kilonya adalah Rp.10.000. Mengingat jarak antara rumah Imin dan toko beras sangat jauh, akhirnya Imin memutuskan untuk berutang dahulu terkait kekurangannya. Berapakah hutang yang Imin miliki? 5 ribu ✓
7. Pak Latif membeli 3 dus wafer. Setiap dus berisi 20 wafer, maka berapakah banyak wafer seluruhnya? 60 wafer ✓
8. Pada hari Minggu, ibu Ijah berbelanja ke pasar. Ia membeli 6 kg apel. 1 kg apel berisi 10 buah. Apel tersebut akan dimasukkan pada 3 kantong plastik dengan isi sama banyak. Maka berapakah banyak apel tiap kantong plastik? 20 x
9. Suhu sebuah kota satu bulan lalu adalah -5°C . Kini suhunya naik 26°C . Maka berapakah suhu kota tersebut sekarang? 25°C , x
10. Azizah ingin bermain kelereng, ia meminjam kelereng kepada Aira sebanyak 5 butir, ternyata Azizah menang 20 kelereng. Maka berapakah jumlah kelereng Azizah sekarang? 25 x

50

Nama : *M. P. G. G. G.*

1. Ibu Firda memiliki lima buah plastik, masing-masing plastik berisi lima butir telur. Jika disetiap plastik terdapat dua butir telur yang pecah, maka berapakah jumlah semua telur yang pecah? *2*
2. Guna memiliki 15 butir permen, semua permen akan dibagikan kepada lima temannya sama rata. Berapakah banyak permen yang akan diterima temannya? *3* ✓
3. Titi memiliki uang Rp.10.000. Uang itu akan ia gunakan untuk membeli 2 buah buku, 1 pulpen dan 1 penghapus. Masing-masing harganya adalah: buku = 2.500, pulpen = 1.500, dan penghapus 1.000, berapakah sisa uang yang dimiliki Titi? *5*
4. Sebuah suhu ruangan mula-mula 17°C , setelah siang hari suhunya naik sebesar 6°C . Dan pada malam hari suhu di ruangan tersebut turun sebesar 8°C . Maka berapakah suhu ruangan tersebut sekarang? *15°C* ✓
5. Pak Rayhan memiliki 18 lembar kertas warna. Semua kertas akan dibagikan kepada ketiga anaknya sama banyak. Maka berapakah jumlah kertas setiap anak yang ia dapatkan? *6*
6. Imin memiliki uang Rp. 20.000. Uang itu akan ia gunakan untuk membeli beras 2,5 kg. Ternyata harga beras per kilonya adalah Rp.10.000. Mengingat jarak antara rumah Imin dan toko beras sangat jauh, akhirnya Imin memutuskan untuk berutang dahulu terkait kekurangannya. Berapakah hutang yang Imin miliki? *5000* ✓
7. Pak Latif membeli 3 dus wafer. Setiap dus berisi 20 wafer, maka berapakah banyak wafer seluruhnya? *2*
8. Pada hari Minggu, ibu Ijah berbelanja ke pasar. Ia membeli 6 kg apel. 1 kg apel berisi 10 buah. Apel tersebut akan dimasukkan pada 3 kantong plastik dengan isi sama banyak. Maka berapakah banyak apel tiap kantong plastik? *3*
9. Suhu sebuah kota satu bulan lalu adalah -5°C . Kini suhunya naik 26°C . Maka berapakah suhu kota tersebut sekarang? *16°C*
10. Azizah ingin bermain kelereng, ia meminjam kelereng kepada Aira sebanyak 5 butir, ternyata Azizah menang 20 kelereng. Maka berapakah jumlah kelereng Azizah sekarang? *25*

30



M. MUHAMMAD

Nama :

1. Ibu Firda memiliki lima buah plastik, masing-masing plastik berisi lima butir telur. Jika disetiap plastik terdapat dua butir telur yang pecah, maka berapakah jumlah semua telur yang pecah? $10 \checkmark$
2. Guna memiliki 15 butir permen, semua permen akan dibagikan kepada lima temannya sama rata. Berapakah banyak permen yang akan diterima temannya? $3 \text{ butir masing-masing} \checkmark$
3. Titi memiliki uang Rp.10.000. Uang itu akan ia gunakan untuk membeli 2 buah buku, 1 pulpen dan 1 penghapus. Masing-masing harganya adalah: buku = 2.500, pulpen = 1.500, dan penghapus 1.000, berapakah sisa uang yang dimiliki Titi? $5.000 \times$
4. Sebuah suhu ruangan mula-mula 17°C , setelah siang hari suhunya naik sebesar 6°C . Dan pada malam hari suhu di ruangan tersebut turun sebesar 8°C . Maka berapakah suhu ruangan tersebut sekarang? $20^{\circ} \times$
5. Pak Rayhan memiliki 16 lembar kertas warna. Semua kertas akan dibagikan kepada ketiga anaknya sama banyak. Maka berapakah jumlah kertas setiap anak yang ia dapatkan? $10 \times$
6. Imin memiliki uang Rp. 20.000. Uang itu akan ia gunakan untuk membeli beras 2,5 kg. Ternyata harga beras per kilonya adalah Rp.10.000. Mengingat jarak antara rumah Imin dan toko beras sangat jauh, akhirnya Imin memutuskan untuk berutang dahulu terkait kekurangannya. Berapakah hutang yang Imin miliki? $20 \times$
7. Pak Latif membeli 3 dus wafer. Setiap dus berisi 20 wafer, maka berapakah banyak wafer seluruhnya? $30 \checkmark$
8. Pada hari Minggu, ibu Ijah berbelanja ke pasar. Ia membeli 5 kg apel. 1 kg apel berisi 10 buah. Apel tersebut akan dimasukkan pada 3 kantong plastik dengan isi sama banyak. Maka berapakah banyak apel tiap kantong plastik? $15 \text{ kg} \times$
9. Suhu sebuah kota satu bulan lalu adalah -5°C . Kini suhunya naik 26°C . Maka berapakah suhu kota tersebut sekarang? $51^{\circ}\text{C} \times$
10. Azizah ingin bermain kelereng, ia meminjam kelereng kepada Aira sebanyak 5 butir, ternyata Azizah menang 20 kelereng. Maka berapakah jumlah kelereng Azizah sekarang? $25 \times$

30

Nama: Muhammad Latif

1. Ibu Firda memiliki lima buah plastik, masing-masing plastik berisi lima butir telur. Jika disetiap plastik terdapat dua butir telur yang pecah, maka berapakah jumlah semua telur yang pecah? $23 \times$
2. Guna memiliki 15 butir permen, semua permen akan dibagikan kepada lima temannya sama rata. Berapakah banyak permen yang akan diterima temannya? $3 \checkmark$
3. Titi memiliki uang Rp.10.000. Uang itu akan ia gunakan untuk membeli 2 buah buku, 1 pulpen dan 1 penghapus. Masing-masing harganya adalah: buku = 2.500, pulpen = 1.500, dan penghapus 1.000, berapakah sisa uang yang dimiliki Titi? ~~7.000~~ $2.500 \checkmark$
4. Sebuah suhu ruangan mula-mula 17°C , setelah siang hari suhunya naik sebesar 6°C . Dan pada malam hari suhu di ruangan tersebut turun sebesar 8°C . Maka berapakah suhu ruangan tersebut sekarang? $15 \checkmark$
5. Pak Rayhan memiliki 15 lembar kertas warna. Semua kertas akan dibagikan kepada ketiga anaknya sama banyak. Maka berapakah jumlah kertas setiap anak yang ia dapatkan? $4 \times$
6. Imin memiliki uang Rp. 20.000. Uang itu akan ia gunakan untuk membeli beras 2,5 kg. Ternyata harga beras per kilonya adalah Rp.10.000. Mengingat jarak antara rumah Imin dan toko beras sangat jauh, akhirnya Imin memutuskan untuk berutang dahulu terkait kekurangannya. Berapakah hutang yang Imin miliki? $10.000 \times$
7. Pak Latif membeli 3 dus wafer. Setiap dus berisi 20 wafer, maka berapakah banyak wafer seluruhnya? ~~60~~ $15000 \times$
8. Pada hari Minggu, ibu Ijah berbelanja ke pasar. Ia membeli 5 kg apel. 1 kg apel berisi 10 buah. Apel tersebut akan dimasukkan pada 3 kantong plastik dengan isi sama banyak. Maka berapakah banyak apel tiap kantong plastik? $15000 \times$
9. Suhu sebuah kota satu bulan lalu adalah -5°C . Kini suhunya naik 26°C . Maka berapakah suhu kota tersebut sekarang? ~~31~~ $16^{\circ}\text{C} \times$
10. Azizah ingin bermain kelereng, ia meminjam kelereng kepada Aira sebanyak 5 butir, ternyata Azizah menang 20 kelereng. Maka berapakah jumlah kelereng Azizah sekarang? ~~25~~ $21.000 \times$

(30)



Nama : u. RAHAN

1. Ibu Firda memiliki lima buah plastik, masing-masing plastik berisi lima butir telur. Jika disetiap plastik terdapat dua butir telur yang pecah, maka berapakah jumlah semua telur yang pecah? 15 x
2. Guna memiliki 15 butir permen, semua permen akan dibagikan kepada lima temannya sama rata. Berapakah banyak permen yang akan diterima temannya? 3 ✓
3. Titi memiliki uang Rp.10.000. Uang itu akan ia gunakan untuk membeli 2 buah buku, 1 pulpen dan 1 penghapus. Masing-masing harganya adalah: buku = 2.500, pulpen = 1.500, dan penghapus 1.000, berapakah sisa uang yang dimiliki Titi? 2.500 ✓
4. Sebuah suhu ruangan mula-mula 17°C , setelah siang hari suhunya naik sebesar 6°C . Dan pada malam hari suhu di ruangan tersebut turun sebesar 8°C . Maka berapakah suhu ruangan tersebut sekarang? 15 ✓
5. Pak Rayhan memiliki 16 lembar kertas warna. Semua kertas akan dibagikan kepada ketiga anaknya sama banyak. Maka berapakah jumlah kertas setiap anak yang ia dapatkan? 5,32
6. Imin memiliki uang Rp. 20.000. Uang itu akan ia gunakan untuk membeli beras 2,5 kg. Ternyata harga beras per kilonya adalah Rp.10.000. Mengingat jarak antara rumah Imin dan toko beras sangat jauh, akhirnya Imin memutuskan untuk berutang dahulu terkait kekurangannya. Berapakah hutang yang Imin miliki? tidak ada x
7. Pak Latif membeli 3 dus wafer. Setiap dus berisi 20 wafer, maka berapakah banyak wafer seluruhnya? 60 ✓
8. Pada hari Minggu, ibu Ijah berbelanja ke pasar. Ia membeli 6 kg apel. 1 kg apel berisi 10 buah. Apel tersebut akan dimasukkan pada 3 kantong plastik dengan isi sama banyak. Maka berapakah banyak apel tiap kantong plastik? 20 x
9. Suhu sebuah kota satu bulan lalu adalah -5°C . Kini suhunya naik 26°C . Maka berapakah suhu kota tersebut sekarang? 21 ✓
10. Azizah ingin bermain kelereng, ia meminjam kelereng kepada Aira sebanyak 5 butir, ternyata Azizah menang 20 kelereng. Maka berapakah jumlah kelereng Azizah sekarang? 25 x

50

50

Nama : Nadia

1. Ibu Firda memiliki lima buah plastik, masing-masing plastik berisi lima butir telur. Jika disetiap plastik terdapat dua butir telur yang pecah, maka berapakah jumlah semua telur yang pecah? $8 \times$
2. Guna memiliki 15 butir permen, semua permen akan dibagikan kepada lima temannya sama rata. Berapakah banyak permen yang akan diterima temannya? $3 \checkmark$
3. Titi memiliki uang Rp.10.000. Uang itu akan ia gunakan untuk membeli 2 buah buku, 1 pulpen dan 1 penghapus. Masing-masing harganya adalah: buku = 2.500, pulpen = 1.500, dan penghapus 1.000, berapakah sisa uang yang dimiliki Titi? $2.500 \checkmark$
4. Sebuah suhu ruangan mula-mula $17^{\circ}C$, setelah siang hari suhunya naik sebesar $6^{\circ}C$. Dan pada malam hari suhu di ruangan tersebut turun sebesar $8^{\circ}C$. Maka berapakah suhu ruangan tersebut sekarang? $10 \checkmark$
5. Pak Rayhan memiliki 10 lembar kertas warna. Semua kertas akan dibagikan kepada ketiga anaknya sama banyak. Maka berapakah jumlah kertas setiap anak yang ia dapatkan? $2 \times$
6. Imin memiliki uang Rp. 20.000. Uang itu akan ia gunakan untuk membeli beras 2,5 kg. Ternyata harga beras per kilonya adalah Rp.10.000. Mengingat jarak antara rumah Imin dan toko beras sangat jauh, akhirnya Imin memutuskan untuk berutang dahulu terkait kekurangannya. Berapakah hutang yang Imin miliki? $19 \times$
7. Pak Latif membeli 3 dus wafer. Setiap dus berisi 20 wafer, maka berapakah banyak wafer seluruhnya? $4 \times$
8. Pada hari Minggu, ibu Ijah berbelanja ke pasar. Ia membeli 6 kg apel. 1 kg apel bersisi 10 buah. Apel tersebut akan dimasukkan pada 3 kantong plastik dengan isi sama banyak. Maka berapakah banyak apel tiap kantong plastik? $6 \times$
9. Suhu sebuah kota satu bulan lalu adalah $-5^{\circ}C$. Kini suhunya naik $26^{\circ}C$. Maka berapakah suhu kota tersebut sekarang? $6 \checkmark$
10. Azizah ingin bermain kelereng, ia meminjam kelereng kepada Aira sebanyak 5 butir, ternyata Azizah menang 20 kelereng. Maka berapakah jumlah kelereng Azizah sekarang? $16 \times$

20



Nama : *Maria Firda*


1. Ibu Firda memiliki lima buah plastik, masing-masing plastik berisi lima butir telur. Jika disetiap plastik terdapat dua butir telur yang pecah, maka berapakah jumlah semua telur yang pecah? *3 butir telur x*
2. Guna memiliki 15 butir permen, semua permen akan dibagikan kepada lima temannya sama rata. Berapakah banyak permen yang akan diterima temannya? *3 ✓*
3. Titi memiliki uang Rp.10.000. Uang itu akan ia gunakan untuk membeli 2 buah buku, 1 pulpen dan 1 penghapus. Masing-masing harganya adalah: buku = 2.500, pulpen = 1.500, dan penghapus 1.000, berapakah sisa uang yang dimiliki Titi? *2.500 ✓*
4. Sebuah suhu ruangan mula-mula 17°C , setelah siang hari suhunya naik sebesar 6°C . Dan pada malam hari suhu di ruangan tersebut turun sebesar 8°C . Maka berapakah suhu ruangan tersebut sekarang? *15°C ✓*
5. Pak Rayhan memiliki ~~10~~ lembar kertas warna. Semua kertas akan dibagikan kepada ketiga anaknya sama banyak. Maka berapakah jumlah kertas setiap anak yang ia dapatkan? *6 x*
6. Imin memiliki uang Rp. 20.000. Uang itu akan ia gunakan untuk membeli beras 2,5 kg. Ternyata harga beras per kilonya adalah Rp.10.000. Mengingat jarak antara rumah Imin dan toko beras sangat jauh, akhirnya Imin memutuskan untuk berutang dahulu terkait kekurangannya. Berapakah hutang yang Imin miliki? *x*
7. Pak Latif membeli 3 dus wafer. Setiap dus berisi 20 wafer, maka berapakah banyak wafer seluruhnya? *30 ✓*
8. Pada hari Minggu, ibu Ijah berbelanja ke pasar. Ia membeli ~~6~~ kg apel. 1 kg apel bersisi 10 buah. Apel tersebut akan dimasukkan pada 3 kantong plastik dengan isi sama banyak. Maka berapakah banyak apel tiap kantong plastik? *30 ✓*
9. Suhu sebuah kota satu bulan lalu adalah -5°C . Kini suhunya naik 26°C . Maka berapakah suhu kota tersebut sekarang? *60/21 ✓*
10. Azizah ingin bermain kelereng, ia meminjam kelereng kepada Aira sebanyak 5 butir, ternyata Azizah menang 20 kelereng. Maka berapakah jumlah kelereng Azizah sekarang? *20 x*

50

20


Nama : *Nor Ain Hayati*

1. Ibu Firda memiliki lima buah plastik, masing-masing plastik berisi lima butir telur. Jika disetiap plastik terdapat dua butir telur yang pecah, maka berapakah jumlah semua telur yang pecah? *15 butir telur x*
2. Guna memiliki 15 butir permen, semua permen akan dibagikan kepada lima temannya sama rata. Berapakah banyak permen yang akan diterima temannya? *3 buah permen ✓*
3. Titi memiliki uang Rp.10.000. Uang itu akan ia gunakan untuk membeli 2 buah buku, 1 pulpen dan 1 penghapus. Masing-masing harganya adalah: buku = 2.500, pulpen = 1.500, dan penghapus 1.000, berapakah sisa uang yang dimiliki Titi? *2.500 ✓*
4. Sebuah suhu ruangan mula-mula 17°C , setelah siang hari suhunya naik sebesar 6°C . Dan pada malam hari suhu di ruangan tersebut turun sebesar 8°C . Maka berapakah suhu ruangan tersebut sekarang? *15°C ✓*
5. Pak Rayhan memiliki 16 lembar kertas warna. Semua kertas akan dibagikan kepada ketiga anaknya sama banyak. Maka berapakah jumlah kertas setiap anak yang ia dapatkan? *4 x*
6. Imin memiliki uang Rp. 20.000. Uang itu akan ia gunakan untuk membeli beras 2,5 kg. Ternyata harga beras per kilonya adalah Rp.10.000. Mengingat jarak antara rumah Imin dan toko beras sangat jauh, akhirnya Imin memutuskan untuk berutang dahulu terkait kekurangannya. Berapakah hutang yang Imin miliki? *5 ribu ✓*
7. Pak Latif membeli 3 dus wafer. Setiap dus berisi 20 wafer, maka berapakah banyak wafer seluruhnya? *60 wafer ✓*
8. Pada hari Minggu, ibu Ijah berbelanja ke pasar. Ia membeli 6 kg apel. 1 kg apel bersisi 10 buah. Apel tersebut akan dimasukkan pada 3 kantong plastik dengan isi sama banyak. Maka berapakah banyak apel tiap kantong plastik? *60 x*
9. Suhu sebuah kota satu bulan lalu adalah -5°C . Kini suhunya naik 26°C . Maka berapakah suhu kota tersebut sekarang? *22°C x*
10. Azizah ingin bermain kelereng, ia meminjam kelereng kepada Aira sebanyak 5 butir, ternyata Azizah menang 20 kelereng. Maka berapakah jumlah kelereng Azizah sekarang? *9 x*



Nama: *Permana*

1. Ibu Firda memiliki lima buah plastik, masing-masing plastik berisi lima butir telur. Jika disetiap plastik terdapat dua butir telur yang pecah, maka berapakah jumlah semua telur yang pecah? *3 butir telur x*
2. Guna memiliki 15 butir permen, semua permen akan dibagikan kepada lima temannya sama rata. Berapakah banyak permen yang akan diterima temannya? *3 ✓*
3. Titi memiliki uang Rp.10.000. Uang itu akan ia gunakan untuk membeli 2 buah buku, 1 pulpen dan 1 penghapus. Masing-masing harganya adalah: buku = 2.500, pulpen = 1.500, dan penghapus 1.000, berapakah sisa uang yang dimiliki Titi? *2.500 ✓*
4. Sebuah suhu ruangan mula-mula 17°C , setelah siang hari suhunya naik sebesar 6°C . Dan pada malam hari suhu di ruangan tersebut turun sebesar 8°C . Maka berapakah suhu ruangan tersebut sekarang? *15°C ✓*
5. Pak Rayhan memiliki 16 lembar kertas warna. Semua kertas akan dibagikan kepada ketiga anaknya sama banyak. Maka berapakah jumlah kertas setiap anak yang ia dapatkan? *6 x*
6. Imin memiliki uang Rp. 20.000. Uang itu akan ia gunakan untuk membeli beras 2,5 kg. Ternyata harga beras per kilonya adalah Rp.10.000. Mengingat jarak antara rumah Imin dan toko beras sangat jauh, akhirnya Imin memutuskan untuk berutang dahulu terkait kekurangannya. Berapakah hutang yang Imin miliki? *5.000 ✓*
7. Pak Latif membeli 3 dus wafer. Setiap dus berisi 20 wafer, maka berapakah banyak wafer seluruhnya? *60.00 ✓*
8. Pada hari Minggu, ibu Ijah berbelanja ke pasar. Ia membeli 6kg apel. 1 kg apel bersisi 10 buah. Apel tersebut akan dimasukkan pada 3 kantong plastik dengan isi sama banyak. Maka berapakah banyak apel tiap kantong plastik? *17.000 x*
9. Suhu sebuah kota satu bulan lalu adalah -5°C . Kini suhunya naik 26°C . Maka berapakah suhu kota tersebut sekarang? *21 ✓*
10. Azizah ingin bermain kelereng, ia meminjam kelereng kepada Aira sebanyak 5 butir, ternyata Azizah menang 20 kelereng. Maka berapakah jumlah kelereng Azizah sekarang? *60 x*

60 = 

Nama : Sih Alhathifah

1. Ibu Firda memiliki lima buah plastik, masing-masing plastik berisi lima butir telur. Jika disetiap plastik terdapat dua butir telur yang pecah, maka berapakah jumlah semua telur yang pecah? ~~10~~ ~~5~~ ✓
2. Guna memiliki 15 butir permen, semua permen akan dibagikan kepada lima temannya sama rata. Berapakah banyak permen yang akan diterima temannya? ~~15~~ ✓
3. Titi memiliki uang Rp.10.000. Uang itu akan ia gunakan untuk membeli 2 buah buku, 1 pulpen dan 1 penghapus. Masing-masing harganya adalah: buku = 2.500, pulpen = 1.500, dan penghapus 1.000, berapakah sisa uang yang dimiliki Titi? ~~5.000~~ ×
4. Sebuah suhu ruangan mula-mula 17°C , setelah siang hari suhunya naik sebesar 6°C . Dan pada malam hari suhu di ruangan tersebut turun sebesar 8°C . Maka berapakah suhu ruangan tersebut sekarang? ~~10~~ °C ×
5. Pak Rayhan memiliki 16 lembar kertas warna. Semua kertas akan dibagikan kepada ketiga anaknya sama banyak. Maka berapakah jumlah kertas setiap anak yang ia dapatkan? ~~10~~ ×
6. Imin memiliki uang Rp. 20.000. Uang itu akan ia gunakan untuk membeli beras 2,5 kg. Ternyata harga beras per kilonya adalah Rp.10.000. Mengingat jarak antara rumah Imin dan toko beras sangat jauh, akhirnya Imin memutuskan untuk berutang dahulu terkait kekurangannya. Berapakah hutang yang Imin miliki? ~~30.000~~ ×
7. Pak Latif membeli 3 dus wafer. Setiap dus berisi 20 wafer, maka berapakah banyak wafer seluruhnya? ~~16~~ ×
8. Pada hari Minggu, ibu Ijah berbelanja ke pasar. Ia membeli 6 kg apel. 1 kg apel berisi 10 buah. Apel tersebut akan dimasukkan pada 3 kantong plastik dengan isi sama banyak. Maka berapakah banyak apel tiap kantong plastik? ~~15~~ ×
9. Suhu sebuah kota satu bulan lalu adalah -5°C . Kini suhunya naik 26°C . Maka berapakah suhu kota tersebut sekarang? ~~21~~ °C ✓
10. Azizah ingin bermain kelereng, ia meminjam kelereng kepada Aira sebanyak 5 butir, ternyata Azizah menang 20 kelereng. Maka berapakah jumlah kelereng Azizah sekarang? ~~15~~ ×

30



Nama : Wafi Azizah Azahra

1. Ibu Firda memiliki lima buah plastik, masing-masing plastik berisi lima butir telur. Jika disetiap plastik terdapat dua butir telur yang pecah, maka berapakah jumlah semua telur yang pecah? $25 \times$
2. Guna memiliki 15 butir permen, semua permen akan dibagikan kepada lima temannya sama rata. Berapakah banyak permen yang akan diterima temannya? $7 \times$
3. Titi memiliki uang Rp.10.000. Uang itu akan ia gunakan untuk membeli 2 buah buku, 1 pulpen dan 1 penghapus. Masing-masing harganya adalah: buku = 2.500, pulpen = 1.500, dan penghapus 1.000, berapakah sisa uang yang dimiliki Titi? $6.000 \times$
4. Sebuah suhu ruangan mula-mula $17^{\circ}C$, setelah siang hari suhunya naik sebesar $6^{\circ}C$. Dan pada malam hari suhu di ruangan tersebut turun sebesar $8^{\circ}C$. Maka berapakah suhu ruangan tersebut sekarang? $18 \times$
5. Pak Rayhan memiliki 16 lembar kertas warna. Semua kertas akan dibagikan kepada ketiga anaknya sama banyak. Maka berapakah jumlah kertas setiap anak yang ia dapatkan? $13 \times$
6. Imin memiliki uang Rp. 20.000. Uang itu akan ia gunakan untuk membeli beras 2,5 kg. Ternyata harga beras per kilonya adalah Rp.10.000. Mengingat jarak antara rumah Imin dan toko beras sangat jauh, akhirnya Imin memutuskan untuk berutang dahulu terkait kekurangannya. Berapakah hutang yang Imin miliki? $30 \times$
7. Pak Latif membeli 3 dus wafer. Setiap dus berisi 20 wafer, maka berapakah banyak wafer seluruhnya? $60 \checkmark$
8. Pada hari Minggu, ibu Ijah berbelanja ke pasar. Ia membeli 5 kg apel. 1 kg apel berisi 10 buah. Apel tersebut akan dimasukkan pada 3 kantong plastik dengan isi sama banyak. Maka berapakah banyak apel tiap kantong plastik? \times
9. Suhu sebuah kota satu bulan lalu adalah $-5^{\circ}C$. Kini suhunya naik $26^{\circ}C$. Maka berapakah suhu kota tersebut sekarang? $200 \times$
10. Azizah ingin bermain kelereng, ia meminjam kelereng kepada Aira sebanyak 5 butir, ternyata Azizah menang 20 kelereng. Maka berapakah jumlah kelereng Azizah sekarang? $25 \times$



Lampiran 8 Analisis Data *Posttest* Matematika (Operasi Hitung Bilangan Bulat)

No	Nama	Item jawaban										Skor
		1	2	3	4	5	6	7	8	9	10	
1	Ayira	10	10	0	10	0	10	10	10	10	10	0
2	Firda Yutari	10	10	10	10	10	10	0	0	10	0	70
3	Hapijah	10	0	10	10	10	0	10	10	10	10	80
4	Laina Aska	0	10	10	10	0	10	10	10	10	0	70
5	M. Praguna	10	10	10	0	10	10	10	0	10	10	80
6	M.Muhaimin	10	10	10	10	10	0	10	10	0	0	80
7	Muhammad Latif	10	10	10	10	10	10	10	0	10	0	80
8	Muhammad Rayhan	10	10	10	10	10	10	10	0	10	0	80
9	Nadia	0	10	10	10	10	10	10	10	10	0	80
10	Nazla Aira	10	10	10	10	0	10	10	0	10	0	70
11	Nor Ain Hayati	10	10	10	10	10	10	10	0	10	0	80
12	Patmah	0	10	10	10	0	10	10	0	0	0	60
13	Siti Khadijah	0	10	10	10	10	10	10	0	10	0	70
14	Wafi Azizah Azaha	10	10	10	10	0	0	10	10	0	0	60
Jumlah		110	130	130	130	90	110	130	60	110	30	1040

Lampiran 9 Analisis Data *Posttest* Matematika (Operasi Hitung Bilangan Bulat)


Nama: *Ayuna*

1. Ibu Firda memiliki lima buah plastik, masing-masing plastik berisi lima butir telur. Jika disetiap plastik terdapat dua butir telur yang pecah, maka berapakah jumlah semua telur yang pecah? *10 butir telur ✓*
2. Guna memiliki 15 butir permen, semua permen akan dibagikan kepada lima temannya sama rata. Berapakah banyak permen yang akan diterima temannya? *3 ✓*
3. Titi memiliki uang Rp.10.000. Uang itu akan ia gunakan untuk membeli 2 buah buku, 1 pulpen dan 1 penghapus. Masing-masing harganya adalah: buku = 2.500, pulpen = 1.500, dan penghapus 1.000, berapakah sisa uang yang dimiliki Titi? *2.500 ✓*
4. Sebuah suhu ruangan mula-mula 17°C , setelah siang hari suhunya naik sebesar 6°C . Dan pada malam hari suhu di ruangan tersebut turun sebesar 8°C . Maka berapakah suhu ruangan tersebut sekarang? *15°C ✓*
5. Pak Rayhan memiliki 16 lembar kertas warna. Semua kertas akan dibagikan kepada ketiga anaknya sama banyak. Maka berapakah jumlah kertas setiap anak yang ia dapatkan? *5 ✓*
6. Imin memiliki uang Rp. 20.000, Uang itu akan ia gunakan untuk membeli beras 2,5 kg. Ternyata harga beras per kilonya adalah Rp.10.000. Mengingat jarak antara rumah Imin dan toko beras sangat jauh, akhirnya Imin memutuskan untuk berutang dahulu terkait kekurangannya. Berapakah hutang yang Imin miliki? *5000 ✓*
7. Pak Latif membeli 3 dus wafer. Setiap dus berisi 20 wafer, maka berapakah banyak wafer seluruhnya? *60 ✓*
8. Pada hari Minggu, ibu Ijah berbelanja ke pasar. Ia membeli 5 kg apel. 1 kg apel berisi 10 buah. Apel tersebut akan dimasukkan pada 3 kantong plastik dengan isi sama banyak. Maka berapakah banyak apel tiap kantong plastik? *50 ✓*
9. Suhu sebuah kota satu bulan lalu adalah -5°C . Kini suhunya naik 26°C . Maka berapakah suhu kota tersebut sekarang? *21 ✓*
10. Azizah ingin bermain kelereng, ia meminjam kelereng kepada Aira sebanyak 5 butir, ternyata Azizah menang 20 kelereng. Maka berapakah jumlah kelereng Azizah sekarang? *25 ✓*

80

Nama : Firda

1. Ibu Firda memiliki lima buah plastik, masing-masing plastik berisi lima butir telur. Jika disetiap plastik terdapat dua butir telur yang pecah, maka berapakah jumlah semua telur yang pecah? $10 \checkmark$
2. Guna memiliki 15 butir permen, semua permen akan dibagikan kepada lima temannya sama rata. Berapakah banyak permen yang akan diterima temannya? $3 \checkmark$
3. Titi memiliki uang Rp.10.000. Uang itu akan ia gunakan untuk membeli 2 buah buku, 1 pulpen dan 1 penghapus. Masing-masing harganya adalah: buku = 2.500, pulpen = 1.500, dan penghapus 1.000, berapakah sisa uang yang dimiliki Titi? $3.500 \checkmark$
4. Sebuah suhu ruangan mula-mula 17°C , setelah siang hari suhunya naik sebesar 6°C . Dan pada malam hari suhu di ruangan tersebut turun sebesar 8°C . Maka berapakah suhu ruangan tersebut sekarang? $15^{\circ}\text{C} \checkmark$
5. Pak Rayhan memiliki 18 lembar kertas warna. Semua kertas akan dibagikan kepada ketiga anaknya sama banyak. Maka berapakah jumlah kertas setiap anak yang ia dapatkan? $6 \checkmark$
6. Imin memiliki uang Rp. 20.000. Uang itu akan ia gunakan untuk membeli beras 2,5 kg. Ternyata harga beras per kilonya adalah Rp.10.000. Mengingat jarak antara rumah Imin dan toko beras sangat jauh, akhirnya Imin memutuskan untuk berutang dahulu terkait kekurangannya. Berapakah hutang yang Imin miliki? $17.500 \checkmark$
7. Pak Latif membeli 3 dus wafer. Setiap dus berisi 20 wafer, maka berapakah banyak wafer seluruhnya? $60 \times$
8. Pada hari Minggu, ibu Ijah berbelanja ke pasar. Ia membeli 6 kg apel. 1 kg apel berisi 10 buah. Apel tersebut akan dimasukkan pada 3 kantong plastik dengan isi sama banyak. Maka berapakah banyak apel tiap kantong plastik? $20 \times$
9. Suhu sebuah kota satu bulan lalu adalah -5°C . Kini suhunya naik 26°C . Maka berapakah suhu kota tersebut sekarang? $21^{\circ}\text{C} \checkmark$
10. Azizah ingin bermain kelereng, ia meminjam kelereng kepada Aira sebanyak 5 butir, ternyata Azizah menang 20 kelereng. Maka berapakah jumlah kelereng Azizah sekarang? $25 \times$



Nama: *Haji Jah*

1. Ibu Firda memiliki lima buah plastik, masing-masing plastik berisi lima butir telur. Jika disetiap plastik terdapat dua butir telur yang pecah, maka berapakah jumlah semua telur yang pecah? *10 butir Telur ✓*
2. Guna memiliki 15 butir permen, semua permen akan dibagikan kepada lima temannya sama rata. Berapakah banyak permen yang akan diterima temannya? *3 ✓*
3. Titi memiliki uang Rp.10.000. Uang itu akan ia gunakan untuk membeli 2 buah buku, 1 pulpen dan 1 penghapus. Masing-masing harganya adalah: buku = 2.500, pulpen = 1.500, dan penghapus 1.000, berapakah sisa uang yang dimiliki Titi? *2.500 ✓*
4. Sebuah suhu ruangan mula-mula 17°C , setelah siang hari suhunya naik sebesar 6°C . Dan pada malam hari suhu di ruangan tersebut turun sebesar 8°C . Maka berapakah suhu ruangan tersebut sekarang? *15°C ✓*
5. Pak Rayhan memiliki 10 lembar kertas warna. Semua kertas akan dibagikan kepada ketiga anaknya sama banyak. Maka berapakah jumlah kertas setiap anak yang ia dapatkan? *5 ✓*
6. Imin memiliki uang Rp. 20.000. Uang itu akan ia gunakan untuk membeli beras 2,5 kg. Ternyata harga beras per kilonya adalah Rp.10.000. Mengingat jarak antara rumah Imin dan toko beras sangat jauh, akhirnya Imin memutuskan untuk berutang dahulu terkait kekurangannya. Berapakah hutang yang Imin miliki? *5.000 ✓*
7. Pak Latif membeli 3 dus wafer. Setiap dus berisi 20 wafer, maka berapakah banyak wafer seluruhnya? *60 ✓*
8. Pada hari Minggu, ibu Ijah berbelanja ke pasar. Ia membeli 5 kg apel. 1 kg apel bersisi 10 buah. Apel tersebut akan dimasukkan pada 3 kantong plastik dengan isi sama banyak. Maka berapakah banyak apel tiap kantong plastik? *30 x*
9. Suhu sebuah kota satu bulan lalu adalah -5°C . Kini suhunya naik 26°C . Maka berapakah suhu kota tersebut sekarang? *21 ✓*
10. Azizah ingin bermain kelereng, ia meminjam kelereng kepada Aira sebanyak 5 butir, ternyata Azizah menang 20 kelereng. Maka berapakah jumlah kelereng Azizah sekarang? *25 x*

80

Nama : *Laira fskija*

1. Ibu Firda memiliki lima buah plastik, masing-masing plastik berisi lima butir telur. Jika disetiap plastik terdapat dua butir telur yang pecah, maka berapakah jumlah semua telur yang pecah? ~~10~~ *10* ✓
2. Guna memiliki 15 butir permen, semua permen akan dibagikan kepada lima temannya sama rata. Berapakah banyak permen yang akan diterima temannya? *3* ✓
3. Titi memiliki uang Rp.10.000. Uang itu akan ia gunakan untuk membeli 2 buah buku, 1 pulpen dan 1 penghapus. Masing-masing harganya adalah: buku = 2.500, pulpen = 1.500, dan penghapus 1.000, berapakah sisa uang yang dimiliki Titi? *2.500* ✓
4. Sebuah suhu ruangan mula-mula 17°C , setelah siang hari suhunya naik sebesar 6°C . Dan pada malam hari suhu di ruangan tersebut turun sebesar 8°C . Maka berapakah suhu ruangan tersebut sekarang? *15°C* ✓
5. Pak Rayhan memiliki ~~10~~ lembar kertas warna. Semua kertas akan dibagikan kepada ketiga anaknya sama banyak. Maka berapakah jumlah kertas setiap anak yang ia dapatkan? *5* ✓
6. Imin memiliki uang Rp. 20.000. Uang itu akan ia gunakan untuk membeli beras 2,5 kg. Ternyata harga beras per kilonya adalah Rp.10.000. Mengingat jarak antara rumah Imin dan toko beras sangat jauh, akhirnya Imin memutuskan untuk berutang dahulu terkait kekurangannya. Berapakah hutang yang Imin miliki? *5.000* ✓
7. Pak Latif membeli 3 dus wafer. Setiap dus berisi 20 wafer, maka berapakah banyak wafer seluruhnya? *60* ✓
8. Pada hari Minggu, ibu Ijah berbelanja ke pasar. Ia membeli 6 kg apel. 1 kg apel bersisi 10 buah. Apel tersebut akan dimasukkan pada 3 kantong plastik dengan isi sama banyak. Maka berapakah banyak apel tiap kantong plastik? *30* ✗
9. Suhu sebuah kota satu bulan lalu adalah -5°C . Kini suhunya naik 26°C . Maka berapakah suhu kota tersebut sekarang? *21* ✓
10. Azizah ingin bermain kelereng, ia meminjam kelereng kepada Aira sebanyak 5 butir, ternyata Azizah menang 20 kelereng. Maka berapakah jumlah kelereng Azizah sekarang? *25* ✗

$$\frac{10}{2} = 5$$

Nama : Pfabvno

1. Ibu Firda memiliki lima buah plastik, masing-masing plastik berisi lima butir telur. Jika disetiap plastik terdapat dua butir telur yang pecah, maka berapakah jumlah semua telur yang pecah? $10 \checkmark$
2. Guna memiliki 15 butir permen, semua permen akan dibagikan kepada lima temannya sama rata. Berapakah banyak permen yang akan diterima temannya? $3 \checkmark$
3. Titi memiliki uang Rp.10.000. Uang itu akan ia gunakan untuk membeli 2 buah buku, 1 pulpen dan 1 penghapus. Masing-masing harganya adalah: buku = 2.500, pulpen = 1.500, dan penghapus 1.000, berapakah sisa uang yang dimiliki Titi? $2.500 \checkmark$
4. Sebuah suhu ruangan mula-mula 17°C , setelah siang hari suhunya naik sebesar 6°C . Dan pada malam hari suhu di ruangan tersebut turun sebesar 8°C . Maka berapakah suhu ruangan tersebut sekarang? $15^{\circ}\text{C} \checkmark$
5. Pak Rayhan memiliki 10 lembar kertas warna. Semua kertas akan dibagikan kepada ketiga anaknya sama banyak. Maka berapakah jumlah kertas setiap anak yang ia dapatkan? $5 \checkmark$
6. Imin memiliki uang Rp. 20.000. Uang itu akan ia gunakan untuk membeli beras 2,5 kg. Ternyata harga beras per kilonya adalah Rp.10.000. Mengingat jarak antara rumah Imin dan toko beras sangat jauh, akhirnya Imin memutuskan untuk berutang dahulu terkait kekurangannya. Berapakah hutang yang Imin miliki? $5.000 \checkmark$
7. Pak Latif membeli 3 dus wafer. Setiap dus berisi 20 wafer, maka berapakah banyak wafer seluruhnya? $60 \checkmark$
8. Pada hari Minggu, ibu Ijah berbelanja ke pasar. Ia membeli 6 kg apel. 1 kg apel bersisi 10 buah. Apel tersebut akan dimasukkan pada 3 kantong plastik dengan isi sama banyak. Maka berapakah banyak apel tiap kantong plastik? $30 \times$
9. Suhu sebuah kota satu bulan lalu adalah -5°C . Kini suhunya naik 26°C . Maka berapakah suhu kota tersebut sekarang? $21 \checkmark$
10. Azizah ingin bermain kelereng, ia meminjam kelereng kepada Aira sebanyak 5 butir, ternyata Azizah menang 20 kelereng. Maka berapakah jumlah kelereng Azizah sekarang? $25 \times$

80 =

Nama: M. MUHAMMAD

1. Ibu Firda memiliki lima buah plastik, masing-masing plastik berisi lima butir telur. Jika disetiap plastik terdapat dua butir telur yang pecah, maka berapakah jumlah semua telur yang pecah? $10 \checkmark$
2. Guna memiliki 15 butir permen, semua permen akan dibagikan kepada lima temannya sama rata. Berapakah banyak permen yang akan diterima temannya? $3 \checkmark$
3. Titi memiliki uang Rp. 10.000. Uang itu akan ia gunakan untuk membeli 2 buah buku, 1 pulpen dan 1 penghapus. Masing-masing harganya adalah: buku = 2.500, pulpen = 1.500, dan penghapus 1.000, berapakah sisa uang yang dimiliki Titi? $2.500 \checkmark$
4. Sebuah suhu ruangan mula-mula 17°C , setelah siang hari suhunya naik sebesar 6°C . Dan pada malam hari suhu di ruangan tersebut turun sebesar 8°C . Maka berapakah suhu ruangan tersebut sekarang? $15^{\circ} \checkmark$
5. Pak Rayhan memiliki 16 lembar kertas warna. Semua kertas akan dibagikan kepada ketiga anaknya sama banyak. Maka berapakah jumlah kertas setiap anak yang ia dapatkan? $5 \checkmark$
6. Imin memiliki uang Rp. 20.000. Uang itu akan ia gunakan untuk membeli beras 2,5 kg. Ternyata harga beras per kilonya adalah Rp. 10.000. Mengingat jarak antara rumah Imin dan toko beras sangat jauh, akhirnya Imin memutuskan untuk berutang dahulu terkait kekurangannya. Berapakah hutang yang Imin miliki? $5000 \checkmark$
7. Pak Latif membeli 3 dus wafer. Setiap dus berisi 20 wafer, maka berapakah banyak wafer seluruhnya? $60 \checkmark$
8. Pada hari Minggu, ibu Ijah berbelanja ke pasar. Ia membeli 6 kg apel. 1 kg apel berisi 10 buah. Apel tersebut akan dimasukkan pada 3 kantong plastik dengan isi sama banyak. Maka berapakah banyak apel tiap kantong plastik? $30 \times$
9. Suhu sebuah kota satu bulan lalu adalah -5°C . Kini suhunya naik 26°C . Maka berapakah suhu kota tersebut sekarang? $21 \checkmark$
10. Azizah ingin bermain kelereng, ia meminjam kelereng kepada Aira sebanyak 5 butir, ternyata Azizah menang 20 kelereng. Maka berapakah jumlah kelereng Azizah sekarang? $25 \times$

80

80

Nama : *Muhammad Lutf*

1. Ibu Firda memiliki lima buah plastik, masing-masing plastik berisi lima butir telur. Jika disetiap plastik terdapat dua butir telur yang pecah, maka berapakah jumlah semua telur yang pecah? *10 ✓*
2. Guna memiliki 15 butir permen, semua permen akan dibagikan kepada lima temannya sama rata. Berapakah banyak permen yang akan diterima temannya? *3 ✓*
3. Titi memiliki uang Rp.10.000. Uang itu akan ia gunakan untuk membeli 2 buah buku, 1 pulpen dan 1 penghapus. Masing-masing harganya adalah: buku = 2.500, pulpen = 1.500, dan penghapus 1.000. berapakah sisa uang yang dimiliki Titi? *✓*
4. Sebuah suhu ruangan mula-mula 17°C . setelah siang hari suhunya naik sebesar 6°C . Dan pada malam hari suhu di ruangan tersebut turun sebesar 8°C . Maka berapakah suhu ruangan tersebut sekarang? *15°C ✓*
5. Pak Rayhan memiliki 15 lembar kertas warna. Semua kertas akan dibagikan kepada ketiga anaknya sama banyak. Maka berapakah jumlah kertas setiap anak yang ia dapatkan? *5 ✓*
6. Imin memiliki uang Rp. 20.000. Uang itu akan ia gunakan untuk membeli beras 2,5 kg. Ternyata harga beras per kilonya adalah Rp.10.000. Mengingat jarak antara rumah Imin dan toko beras sangat jauh, akhirnya Imin memutuskan untuk berutang dahulu terkait kekurangannya. Berapakah hutang yang Imin miliki? *5.000 ✓*
7. Pak Latif membeli 3 dus wafer. Setiap dus berisi 20 wafer, maka berapakah banyak wafer seluruhnya? *60 ✓*
8. Pada hari Minggu, ibu Ijah berbelanja ke pasar. Ia membeli 6 kg apel. 1 kg apel bersisi 10 buah. Apel tersebut akan dimasukkan pada 3 kantong plastik dengan isi sama banyak. Maka berapakah banyak apel tiap kantong plastik? *30 ✗*
9. Suhu sebuah kota satu bulan lalu adalah -5°C . Kini suhunya naik 26°C . Maka berapakah suhu kota tersebut sekarang? *21°C ✓*
10. Azizah ingin bermain kelereng, ia meminjam kelereng kepada Aira sebanyak 5 butir, ternyata Azizah menang 20 kelereng. Maka berapakah jumlah kelereng Azizah sekarang? *25 ✗*

80

Nama RAYHAN

1. Ibu Firda memiliki lima buah plastik, masing-masing plastik berisi lima butir telur. Jika disetiap plastik terdapat dua butir telur yang pecah, maka berapakah jumlah semua telur yang pecah? 10 ✓
2. Guna memiliki 15 butir permen, semua permen akan dibagikan kepada lima temannya sama rata. Berapakah banyak permen yang akan diterima temannya? 3 ✓
3. Titi memiliki uang Rp.10.000. Uang itu akan ia gunakan untuk membeli 2 buah buku, 1 pulpen dan 1 penghapus. Masing-masing harganya adalah: buku = 2.500, pulpen = 1.500, dan penghapus 1.000. berapakah sisa uang yang dimiliki Titi? 2.500 ✓
4. Sebuah suhu ruangan mula-mula 17°C , setelah siang hari suhunya naik sebesar 6°C . Dan pada malam hari suhu di ruangan tersebut turun sebesar 8°C . Maka berapakah suhu ruangan tersebut sekarang? 15 ✓
5. Pak Rayhan memiliki 16 lembar kertas warna. Semua kertas akan dibagikan kepada ketiga anaknya sama banyak. Maka berapakah jumlah kertas setiap anak yang ia dapatkan? 5 ✓
6. Imin memiliki uang Rp. 20.000. Uang itu akan ia gunakan untuk membeli beras 2,5 kg. Ternyata harga beras per kilonya adalah Rp.10.000. Mengingat jarak antara rumah Imin dan toko beras sangat jauh, akhirnya Imin memutuskan untuk berutang dahulu terkait kekurangannya. Berapakah hutang yang Imin miliki? 4000 ✓
7. Pak Latif membeli 3 dus wafer. Setiap dus berisi 20 wafer, maka berapakah banyak wafer seluruhnya? 60 ✓
8. Pada hari Minggu, ibu Ijah berbelanja ke pasar. Ia membeli 6 kg apel. 1 kg apel berisi 10 buah. Apel tersebut akan dimasukkan pada 3 kantong plastik dengan isi sama banyak. Maka berapakah banyak apel tiap kantong plastik? 30 ✓
9. Suhu sebuah kota satu bulan lalu adalah -5°C . Kini suhunya naik 26°C . Maka berapakah suhu kota tersebut sekarang? 21 ✓
10. Azizah ingin bermain kelereng, ia meminjam kelereng kepada Aira sebanyak 5 butir, ternyata Azizah menang 20 kelereng. Maka berapakah jumlah kelereng Azizah sekarang? 25 ✓



Nama : Najia

1. Ibu Firda memiliki lima buah plastik, masing-masing plastik berisi lima butir telur. Jika disetiap plastik terdapat dua butir telur yang pecah, maka berapakah jumlah semua telur yang pecah? 10 ✓
2. Guna memiliki 15 butir permen, semua permen akan dibagikan kepada lima temannya sama rata. Berapakah banyak permen yang akan diterima temannya? 3 ✓
3. Titi memiliki uang Rp.10.000. Uang itu akan ia gunakan untuk membeli 2 buah buku, 1 pulpen dan 1 penghapus. Masing-masing harganya adalah: buku = 2.500, pulpen = 1.500, dan penghapus 1.000, berapakah sisa uang yang dimiliki Titi? 4.000 ✓
4. Sebuah suhu ruangan mula-mula 17°C , setelah siang hari suhunya naik sebesar 6°C . Dan pada malam hari suhu di ruangan tersebut turun sebesar 8°C . Maka berapakah suhu ruangan tersebut sekarang? 15 ✓
5. Pak Rayhan memiliki 10 lembar kertas warna. Semua kertas akan dibagikan kepada ketiga anaknya sama banyak. Maka berapakah jumlah kertas setiap anak yang ia dapatkan? 3 ✓
6. Imin memiliki uang Rp. 20.000. Uang itu akan ia gunakan untuk membeli beras 2,5 kg. Ternyata harga beras per kilonya adalah Rp.10.000. Mengingat jarak antara rumah Imin dan toko beras sangat jauh, akhirnya Imin memutuskan untuk berutang dahulu terkait kekurangannya. Berapakah hutang yang Imin miliki? 5.000 ✓
7. Pak Latif membeli 3 dus wafer. Setiap dus berisi 20 wafer, maka berapakah banyak wafer seluruhnya? 60 ✓
8. Pada hari Minggu, ibu Ijah berbelanja ke pasar. Ia membeli 6 kg apel. 1 kg apel bersisi 10 buah. Apel tersebut akan dimasukkan pada 3 kantong plastik dengan isi sama banyak. Maka berapakah banyak apel tiap kantong plastik? 20 ✓
9. Suhu sebuah kota satu bulan lalu adalah -5°C . Kini suhunya naik 26°C . Maka berapakah suhu kota tersebut sekarang? 21 ✓
10. Azizah ingin bermain kelereng, ia meminjam kelereng kepada Aira sebanyak 5 butir, ternyata Azizah menang 20 kelereng. Maka berapakah jumlah kelereng Azizah sekarang? 25 ✗



Nama : *Nuella A'la*

1. Ibu Firda memiliki lima buah plastik, masing-masing plastik berisi lima butir telur. Jika disetiap plastik terdapat dua butir telur yang pecah, maka berapakah jumlah semua telur yang pecah? *10 ✓*
2. Guna memiliki 15 butir permen, semua permen akan dibagikan kepada lima temannya sama rata. Berapakah banyak permen yang akan diterima temannya? *3 ✓*
3. Titi memiliki uang Rp.10.000. Uang itu akan ia gunakan untuk membeli 2 buah buku, 1 pulpen dan 1 penghapus. Masing-masing harganya adalah: buku = 2.500, pulpen = 1.500, dan penghapus 1.000, berapakah sisa uang yang dimiliki Titi? *2.500 ✓*
4. Sebuah suhu ruangan mula-mula 17°C , setelah siang hari suhunya naik sebesar 6°C . Dan pada malam hari suhu di ruangan tersebut turun sebesar 8°C . Maka berapakah suhu ruangan tersebut sekarang? *15°C ✓*
5. Pak Rayhan memiliki 16 lembar kertas warna. Semua kertas akan dibagikan kepada ketiga anaknya sama banyak. Maka berapakah jumlah kertas setiap anak yang ia dapatkan? *15 ✗*
6. Imin memiliki uang Rp. 20.000. Uang itu akan ia gunakan untuk membeli beras 2,5 kg. Ternyata harga beras per kilonya adalah Rp.10.000. Mengingat jarak antara rumah Imin dan toko beras sangat jauh, akhirnya Imin memutuskan untuk berutang dahulu terkait kekurangannya. Berapakah hutang yang Imin miliki? *5.000 ✓*
7. Pak Latif membeli 3 dus wafer. Setiap dus berisi 20 wafer, maka berapakah banyak wafer seluruhnya? *60 ✓*
8. Pada hari Minggu, ibu Ijah berbelanja ke pasar. Ia membeli 6 kg apel. 1 kg apel berisi 10 buah. Apel tersebut akan dimasukkan pada 3 kantong plastik dengan isi sama banyak. Maka berapakah banyak apel tiap kantong plastik? *30 ✗*
9. Suhu sebuah kota satu bulan lalu adalah -5°C . Kini suhunya naik 26°C . Maka berapakah suhu kota tersebut sekarang? *21 ✓*
10. Azizah ingin bermain kelereng, ia meminjam kelereng kepada Aira sebanyak 5 butir, ternyata Azizah menang 20 kelereng. Maka berapakah jumlah kelereng Azizah sekarang? *25 ✗*

70

Nama: *Nor Al Hayati*

1. Ibu Firda memiliki lima buah plastik, masing-masing plastik berisi lima butir telur. Jika disetiap plastik terdapat dua butir telur yang pecah, maka berapakah jumlah semua telur yang pecah? ~~10~~ *10* ✓
2. Guna memiliki 15 butir permen, semua permen akan dibagikan kepada lima temannya sama rata. Berapakah banyak permen yang akan diterima temannya? *3* ✓
3. Titi memiliki uang Rp. 10.000. Uang itu akan ia gunakan untuk membeli 2 buah buku, 1 pulpen dan 1 penghapus. Masing-masing harganya adalah: buku = 2.500, pulpen = 1.500, dan penghapus 1.000, berapakah sisa uang yang dimiliki Titi? *2.500* ✓
4. Sebuah suhu ruangan mula-mula 17°C , setelah siang hari suhunya naik sebesar 6°C . Dan pada malam hari suhu di ruangan tersebut turun sebesar 8°C . Maka berapakah suhu ruangan tersebut sekarang? *15°C* ✓
5. Pak Rayhan memiliki ~~10~~ lembar kertas warna. Semua kertas akan dibagikan kepada ketiga anaknya sama banyak. Maka berapakah jumlah kertas setiap anak yang ia dapatkan? *5* ✓
6. Imin memiliki uang Rp. 20.000. Uang itu akan ia gunakan untuk membeli beras 2,5 kg. Ternyata harga beras per kilonya adalah Rp. 10.000. Mengingat jarak antara rumah Imin dan toko beras sangat jauh, akhirnya Imin memutuskan untuk berutang dahulu terkait kekurangannya. Berapakah hutang yang Imin miliki? *5.000* ✓
7. Pak Latif membeli 3 dus wafer. Setiap dus berisi 20 wafer, maka berapakah banyak wafer seluruhnya? *60* ✓
8. Pada hari Minggu, ibu Ijah berbelanja ke pasar. Ia membeli ~~5~~ kg apel. 1 kg apel berisi 10 buah. Apel tersebut akan dimasukkan pada 3 kantong plastik dengan isi sama banyak. Maka berapakah banyak apel tiap kantong plastik? *30* ✗
9. Suhu sebuah kota satu bulan lalu adalah -5°C . Kini suhunya naik 26°C . Maka berapakah suhu kota tersebut sekarang? *21* ✓
10. Azizah ingin bermain kelereng, ia meminjam kelereng kepada Aira sebanyak 5 butir, ternyata Azizah menang 20 kelereng. Maka berapakah jumlah kelereng Azizah sekarang? *25* ✗

80

Nama : *Ferdinand*

1. Ibu Firda memiliki lima buah plastik, masing-masing plastik berisi lima butir telur. Jika disetiap plastik terdapat dua butir telur yang pecah, maka berapakah jumlah semua telur yang pecah? ~~100~~ *10 butir* ✓
2. Guna memiliki 15 butir permen, semua permen akan dibagikan kepada lima temannya sama rata. Berapakah banyak permen yang akan diterima temannya? *3* ✓
3. Titi memiliki uang Rp.10.000. Uang itu akan ia gunakan untuk membeli 2 buah buku, 1 pulpen dan 1 penghapus. Masing-masing harganya adalah: buku = 2.500, pulpen = 1.500, dan penghapus 1.000, berapakah sisa uang yang dimiliki Titi? *2.500* ✓
4. Sebuah suhu ruangan mula-mula 17°C , setelah siang hari suhunya naik sebesar 6°C . Dan pada malam hari suhu di ruangan tersebut turun sebesar 8°C . Maka berapakah suhu ruangan tersebut sekarang? *15°C* ✓
5. Pak Rayhan memiliki 16 lembar kertas warna. Semua kertas akan dibagikan kepada ketiga anaknya sama banyak. Maka berapakah jumlah kertas setiap anak yang ia dapatkan? *5* ✓
6. Imin memiliki uang Rp. 20.000. Uang itu akan ia gunakan untuk membeli beras 2,5 kg. Ternyata harga beras per kilonya adalah Rp.10.000. Mengingat jarak antara rumah Imin dan toko beras sangat jauh, akhirnya Imin memutuskan untuk berutang dahulu terkait kekurangannya. Berapakah hutang yang Imin miliki? *5.000* ✓
7. Pak Latif membeli 3 dus wafer. Setiap dus berisi 20 wafer, maka berapakah banyak wafer seluruhnya? *60* ✓
8. Pada hari Minggu, ibu Ijah berbelanja ke pasar. Ia membeli 6 kg apel. 1 kg apel bersisi 10 buah. Apel tersebut akan dimasukkan pada 3 kantong plastik dengan isi sama banyak. Maka berapakah banyak apel tiap kantong plastik? *20* ✗
9. Suhu sebuah kota satu bulan lalu adalah -5°C . Kini suhunya naik 26°C . Maka berapakah suhu kota tersebut sekarang? *20* ✗
10. Azizah ingin bermain kelereng, ia meminjam kelereng kepada Aira sebanyak 5 butir, ternyata Azizah menang 20 kelereng. Maka berapakah jumlah kelereng Azizah sekarang? *25* ✗

70 *60*

Nama: *Siti Asah Fida*

1. Ibu Firda memiliki lima buah plastik, masing-masing plastik berisi lima butir telur. Jika disetiap plastik terdapat dua butir telur yang pecah, maka berapakah jumlah semua telur yang pecah? *30* ✗
2. Guna memiliki 15 butir permen, semua permen akan dibagikan kepada lima temannya sama rata. Berapakah banyak permen yang akan diterima temannya? *3* ✓
3. Titi memiliki uang Rp.10.000. Uang itu akan ia gunakan untuk membeli 2 buah buku, 1 pulpen dan 1 penghapus. Masing-masing harganya adalah: buku = 2.500, pulpen = 1.500, dan penghapus 1.000. berapakah sisa uang yang dimiliki Titi? ~~2.500~~ *2.500* ✓
4. Sebuah suhu ruangan mula-mula 17°C , setelah siang hari suhunya naik sebesar 6°C . Dan pada malam hari suhu di ruangan tersebut turun sebesar 8°C . Maka berapakah suhu ruangan tersebut sekarang? ~~15~~ *15* ✓
5. Pak Rayhan memiliki 18 lembar kertas warna. Semua kertas akan dibagikan kepada ketiga anaknya sama banyak. Maka berapakah jumlah kertas setiap anak yang ia dapatkan? *5* ✓
6. Imin memiliki uang Rp. 20.000. Uang itu akan ia gunakan untuk membeli beras 2,5 kg. Ternyata harga beras per kilonya adalah Rp.10.000. Mengingat jarak antara rumah Imin dan toko beras sangat jauh, akhirnya Imin memutuskan untuk berutang dahulu terkait kekurangannya. Berapakah hutang yang Imin miliki? *5.000* ✓
7. Pak Latif membeli 3 dus wafer. Setiap dus berisi 20 wafer, maka berapakah banyak wafer seluruhnya? *60* ✓
8. Pada hari Minggu, ibu Ijah berbelanja ke pasar, ia membeli 6 kg apel. 1 kg apel bersisi 10 buah. Apel tersebut akan dimasukkan pada 3 kantong plastik dengan isi sama banyak. Maka berapakah banyak apel tiap kantong plastik? *30* ✗
9. Suhu sebuah kota satu bulan lalu adalah -5°C . Kini suhunya naik 26°C . Maka berapakah suhu kota tersebut sekarang? *21* ✓
10. Azizah ingin bermain kelereng, ia meminjam kelereng kepada Aira sebanyak 5 butir, ternyata Azizah menang 20 kelereng. Maka berapakah jumlah kelereng Azizah sekarang? *25* ✗

8070

Nama: Wafi Azizah Azahra

1. Ibu Firda memiliki lima buah plastik, masing-masing plastik berisi lima butir telur. Jika disetiap plastik terdapat dua butir telur yang pecah, maka berapakah jumlah semua telur yang pecah? ~~10~~ 10 butir telur ✓
2. Guna memiliki 15 butir permen, semua permen akan dibagikan kepada lima temannya sama rata. Berapakah banyak permen yang akan diterima temannya? 3 ✓
3. Titi memiliki uang Rp.10.000. Uang itu akan ia gunakan untuk membeli 2 buah buku, 1 pulpen dan 1 penghapus. Masing-masing harganya adalah: buku = 2.500, pulpen = 1.500, dan penghapus 1.000, berapakah sisa uang yang dimiliki Titi? 2.500 ✓
4. Sebuah suhu ruangan mula-mula 17°C , setelah siang hari suhunya naik sebesar 6°C . Dan pada malam hari suhu di ruangan tersebut turun sebesar 8°C . Maka berapakah suhu ruangan tersebut sekarang? 15°C ✓
5. Pak Rayhan memiliki 16 lembar kertas warna. Semua kertas akan dibagikan kepada ketiga anaknya sama banyak. Maka berapakah jumlah kertas setiap anak yang ia dapatkan? 15 ✗
6. Imin memiliki uang Rp. 20.000. Uang itu akan ia gunakan untuk membeli beras 2,5 kg. Ternyata harga beras per kilonya adalah Rp.10.000. Mengingat jarak antara rumah Imin dan toko beras sangat jauh, akhirnya Imin memutuskan untuk berutang dahulu terkait kekurangannya. Berapakah hutang yang Imin miliki? 5000 ✗
7. Pak Latif membeli 3 dus wafer. Setiap dus berisi 20 wafer, maka berapakah banyak wafer seluruhnya? 60 ✓
8. Pada hari Minggu, ibu Ijah berbelanja ke pasar. Ia membeli 6 kg apel. 1 kg apel berisi 10 buah. Apel tersebut akan dimasukkan pada 3 kantong plastik dengan isi sama banyak. Maka berapakah banyak apel tiap kantong plastik? 30 ✗
9. Suhu sebuah kota satu bulan lalu adalah -5°C . Kini suhunya naik 26°C . Maka berapakah suhu kota tersebut sekarang? 21 ✓
10. Azizah ingin bermain kelereng, ia meminjam kelereng kepada Aira sebanyak 5 butir, ternyata Azizah menang 20 kelereng. Maka berapakah jumlah kelereng Azizah sekarang? 25 ✗

~~30~~ 60

Lampiran 10 Rencana Pelaksanaan Pembelajaran (RPP)

Identitas Sekolah	: MI Nahdatussibyan
Kelas/Semester	: V/ Ganjil
Pembelajaran Ke	: 4 - 5
Alokasi Waktu	: 70 Menit
Materi Pembelajaran	: Matematika (Operasi Hitung Bilangan Bulat)

A. Kompetensi Dasar

- 1.1 Melakukan operasi hitung bilangan bulat
- 1.2 Menggunakan sifat-sifat operasi hitung bilangan bulat

B. Tujuan Pembelajaran

1. Menyelesaikan dan dapat mengimplementasikan operasi hitung bilangan bulat.
2. Memahami operasi hitung bilangan bulat, penjumlahan, pengurangan, perkalian, dan pembagian

C. Kegiatan Pembelajaran

Kegiatan	Deskripsi Kegiatan	Alokasi Waktu
Pendahuluan	<ol style="list-style-type: none"> 1. Peneliti mengawali pembelajaran dengan mengucapkan salam, berdo'a bersama, menanyakan kabar dan melakukan absensi (Orientasi). 2. Peneliti menanyakan kesiapan peserta didik dalam mengikuti pembelajaran 3. Peneliti menyampaikan tujuan pembelajaran. 4. Peneliti memberikan motivasi kepada peserta didik agar selalu bersemangat dan tetap mematuhi protokol kesehatan COVID 19 (Motivasi). 5. Peneliti mengajukan pertanyaan mengenai materi sebelumnya dan mengaitkan dengan materi operasi hitung bilangan bulat (Apersepsi) 6. Peneliti memberikan gambaran materi pelajaran yang akan disajikan. 7. Peneliti menyampaikan materi pelajaran yang akan digunakan untuk pembelajaran, yaitu Operasi Hitung Bilangan Bulat,. Yang perlu di ketahui bahwa kegiatan pembelajaran bertujuan untuk mencapai kompetensi dasar yang sudah dipetakan 	10 Menit

	dalam materi pelajaran.	
Inti (Pemberian Perlakuan)	<ol style="list-style-type: none"> 1. Peneliti memberikan informasi tentang operasi hitung bilangan bulat penjumlahan dan pengurangan dengan cara menjelaskan terlebih dahulu kepada peserta didik di dalam ruangan sampai pada akhirnya peserta didik di bawa belajar ke luar ruangan untuk mengaitkan pembelajaran dengan kehidupan sehari-hari. 2. Peneliti memberikan kesempatan kepada peserta didik untuk membuat pertanyaan yang belum dipahami dari pengetahuan (5W+1H). 3. Peneliti memberi penugasan kepada peserta didik mengenai operasi hitung bilangan bulat penjumlahan dan pengurangan. 4. Peneliti menugaskan kepada peserta didik untuk mengumpulkan hasil kerjanya di pertemuan selanjutnya. 	50 Menit
Penutup	<ol style="list-style-type: none"> 1. Peneliti bersama peserta didik merangkum materi pembelajaran. 2. Peneliti menyampaikan topik pembelajaran selanjutnya untuk dipelajari peserta didik terlebih dahulu. 3. Peneliti dan peserta didik menutup pembelajaran dengan membaca hamdalah dan berdoa serta mengucapkan salam. 	10 Menit
	<i>ASSESMENT</i> (Penilaian)	
	Penilaian Sikap, Pengetahuan dan Keterampilan (lampiran)	

Teknik Penilaian

Lampiran

1. Penilaian Sikap : tanggung jawab dan percaya diri

a. Tanggung Jawab

Nama Peserta didik	Aspek Peserta didik yang dinilai				Catatan Guru	
	Menyelesaikan tugas belajar		Menyelesaikan tugas PR		Jumlah SB	Jumlah B
SB	B	SB	B			

b. Percaya Diri

Nama Peserta didik	Aspek Peserta didik yang dinilai		Catatan Guru
	Berani Tampil		
	SB	B	

2. Penilaian Pengetahuan : Tes Tertulis

Format Penilaian

Nama Peserta didik	Hasil Penilaian Pengetahuan			
	Aspek 1		Aspek 2	
	Tercapai (√)	Belum Tercapai (√)	Tercapai (√)	Belum Tercapai (√)

Keterangan :

- Aspek 1 : Keikutsertaan peserta didik dalam kegiatan berlatih
- Aspek 2 : Keikutsertaan peserta didik dalam kegiatan mengamati

3. Penilaian Keterampilan : Uji Unjuk Kerja

Aspek Kriteria	Sangat Paham	Paham	Kurang Paham	Belum Paham
	4	3	2	1
Hasil pekerjaan peserta didik mampu memahami materi Operasi hitung bilangan bulat	Sangat Paham mengenai materi Operasi hitung bilangan bulat	Paham mengenai materi Operasi hitung bilangan bulat	Paham sebagian mengenai materi Operasi hitung bilangan bulat	Belum paham mengenai materi Operasi hitung bilangan bulat

Tamban, 01 Desember 2022

Mengetahui,
Guru Kelas

Mahasiswa

Norlatifah,S.Pd

Ari Mariati

Lampiran 11 Rencana Pelaksanaan Pembelajaran (RPP)

Identitas Sekolah : MI Nahdatussibyan
Kelas/Semester : V/ Ganjil
Pembelajaran Ke : 4 - 5
Alokasi Waktu : 70 Menit
Materi Pembelajaran : Matematika (Operasi Hitung Bilangan Bulat)

A. Kompetensi Dasar

- 1.1 Melakukan operasi hitung bilangan bulat
- 1.2 Menggunakan sifat-sifat operasi hitung bilangan bulat

B. Tujuan Pembelajaran

1. Menyelesaikan dan dapat mengimplementasikan operasi hitung bilangan bulat.
2. Memahami operasi hitung bilangan bulat, penjumlahan, pengurangan, perkalian, dan pembagian

C. Kegiatan Pembelajaran

Kegiatan	Deskripsi Kegiatan	Alokasi Waktu
Pendahuluan	<ol style="list-style-type: none"> 1. Peneliti mengawali pembelajaran dengan mengucapkan salam, berdo'a bersama, menanyakan kabar dan melakukan absensi (Orientasi). 2. Peneliti menanyakan kesiapan peserta didik dalam mengikuti pembelajaran 3. Peneliti menyampaikan tujuan pembelajaran. 4. Peneliti memberikan motivasi kepada peserta didik agar selalu bersemangat dan tetap mematuhi protokol kesehatan COVID 19 (Motivasi). 5. Peneliti mengajukan pertanyaan mengenai materi sebelumnya dan mengaitkan dengan materi operasi hitung bilangan bulat (Apersepsi) 6. Peneliti memberikan gambaran materi pelajaran yang akan disajikan. 7. Peneliti menyampaikan materi pelajaran yang akan digunakan untuk pembelajaran, yaitu Operasi Hitung Bilangan Bulat,. Yang perlu di ketahui bahwa kegiatan pembelajaran bertujuan untuk mencapai kompetensi dasar yang sudah dipetakan dalam materi pelajaran. 	10 Menit

Inti (Pemberian Perlakuan)	<ol style="list-style-type: none"> 1. Peneliti memberikan informasi tentang operasi hitung bilangan bulat perkalian dengan cara menjelaskan terlebih dahulu kepada peserta didik di dalam ruangan sampai pada akhirnya peserta didik di bawa belajar ke luar ruangan untuk mengaitkan pembelajaran dengan kehidupan sehari-hari. 2. Peneliti memberikan kesempatan kepada peserta didik untuk membuat pertanyaan yang belum dipahami dari pengetahuan (5W+1H). 3. Peneliti memberi penugasan kepada peserta didik mengenai operasi hitung bilangan bulat penjumlahan dan pengurangan. 4. Peneliti menugaskan kepada peserta didik untuk mengumpulkan hasil kerjanya di pertemuan selanjutnya. 	50 Menit
Penutup	<ol style="list-style-type: none"> 1. Peneliti bersama perserta didik merangkum materi pembelajaran. 2. Peneliti menyampaikan topik pembelajaran selanjutnya untuk dipelajari peserta didik terlebih dahulu. 3. Peneliti dan peserta didik menutup pembelajaran dengan membaca hamdalah dan berdoa serta mengucapkan salam. 	10 Menit
	<i>ASSESMEN</i> (Penilaian)	
	Penilaian Sikap, Pengetahuan dan Keterampilan (lampiran)	

Teknik Penilaian

Lampiran

1. Penilaian Sikap : tanggung jawab dan percaya diri

a. Tanggung Jawab

Nama Peserta didik	Aspek Peserta didik yang dinilai				Catatan Guru	
	Menyelesaikan tugas belajar		Menyelesaikan tugas PR			
	SB	B	SB	B	Jumlah SB	Jumlah B

b. Percaya Diri

Nama Peserta didik	Aspek Peserta didik yang dinilai		Catatan Guru
	Berani Tampil		
	SB	B	

2. Penilaian Pengetahuan : Tes Tertulis

Format Penilaian

Nama Peserta didik	Hasil Penilaian Pengetahuan			
	Aspek 1		Aspek 2	
	Tercapai (√)	Belum Tercapai (√)	Tercapai (√)	Belum Tercapai (√)

Keterangan :

- Aspek 1 : Keikutsertaan peserta didik dalam kegiatan berlatih
- Aspek 2 : Keikutsertaan peserta didik dalam kegiatan mengamati

3. Penilaian Keterampilan : Uji Unjuk Kerja

Aspek Kriteria	Sangat Paham	Paham	Kurang Paham	Belum Paham
	4	3	2	1
Hasil pekerjaan peserta didik mampu memahami materi Operasi hitung bilangan bulat	Sangat Paham mengenai materi Operasi hitung bilangan bulat	Paham mengenai materi Operasi hitung bilangan bulat	Paham sebagian mengenai materi Operasi hitung bilangan bulat	Belum paham mengenai materi Operasi hitung bilangan bulat

Tamban,03 Desember 2022

Mengetahui,
Guru Kelas

Mahasiswa

Norlatifah,S.Pd

Ari Mariati

Lampiran 12 Rencana Pelaksanaan Pembelajaran (RPP)

Identitas Sekolah : MI Nahdatussibyan
Kelas/Semester : V/ Ganjil
Pembelajaran Ke : 4 - 5
Alokasi Waktu : 90 Menit
Materi Pembelajaran : Matematika (Operasi Hitung Bilangan Bulat)

A. Kompetensi Dasar

- 1.1 Melakukan operasi hitung bilangan bulat
- 1.2 Menggunakan sifat-sifat operasi hitung bilangan bulat

B. Tujuan Pembelajaran

1. Menyelesaikan dan dapat mengimplementasikan operasi hitung bilangan bulat.
2. Memahami operasi hitung bilangan bulat, penjumlahan, pengurangan, perkalian, dan pembagian

C. Kegiatan Pembelajaran

Kegiatan	Deskripsi Kegiatan	Alokasi Waktu
Pendahuluan	<ol style="list-style-type: none"> 1. Peneliti mengawali pembelajaran dengan mengucapkan salam, berdo'a bersama, menanyakan kabar dan melakukan absensi (Orientasi). 2. Peneliti menanyakan kesiapan peserta didik dalam mengikuti pembelajaran 3. Peneliti menyampaikan tujuan pembelajaran. 4. Peneliti memberikan motivasi kepada peserta didik agar selalu bersemangat dan tetap mematuhi protokol kesehatan COVID 19 (Motivasi). 5. Peneliti mengajukan pertanyaan mengenai materi sebelumnya dan mengaitkan dengan materi operasi hitung bilangan bulat (Apersepsi) 6. Peneliti memberikan gambaran materi pelajaran yang akan disajikan. 7. Peneliti menyampaikan materi pelajaran yang akan digunakan untuk pembelajaran, yaitu Operasi Hitung Bilangan Bulat,. Yang perlu di ketahui bahwa kegiatan pembelajaran bertujuan untuk mencapai kompetensi dasar yang sudah ditetapkan dalam materi pelajaran. 	10 Menit
Inti (Pemberian)	<ol style="list-style-type: none"> 1. Peneliti memberikan informasi tentang operasi hitung bilangan bulat pembagian 	50 Menit

Perlakuan)	<p>dengan cara menjelaskan terlebih dahulu kepada peserta didik di dalam ruangan sampai pada akhirnya peserta didik di bawa belajar ke luar ruangan untuk mengaitkan pembelajaran dengan kehidupan sehari-hari.</p> <ol style="list-style-type: none"> Peneliti memberikan kesempatan kepada peserta didik untuk membuat pertanyaan yang belum dipahami dari pengetahuan (5W+1H). Peneliti memberi penugasan kepada peserta didik mengenai operasi hitung bilangan bulat penjumlahan dan pengurangan. Peneliti menugaskan kepada peserta didik untuk mengumpulkan hasil kerjanya di pertemuan selanjutnya. 	
Penutup	<ol style="list-style-type: none"> Peneliti bersama peserta didik merangkum materi pembelajaran. Peneliti menyampaikan topik pembelajaran selanjutnya untuk dipelajari peserta didik terlebih dahulu. Peneliti dan peserta didik menutup pembelajaran dengan membaca hamdalah dan berdoa serta mengucapkan salam. 	10 Menit
	<i>ASSESMENT</i> (Penilaian)	
	Penilaian Sikap, Pengetahuan dan Keterampilan (lampiran)	

Teknik Penilaian

Lampiran

1. Penilaian Sikap : tanggung jawab dan percaya diri

a. Tanggung Jawab

Nama Peserta didik	Aspek Peserta didik yang dinilai				Catatan Guru	
	Menyelesaikan tugas belajar		Menyelesaikan tugas PR			
	SB	B	SB	B	Jumlah SB	Jumlah B

b. Percaya Diri

Nama Peserta didik	Aspek Peserta didik yang dinilai		Catatan Guru
	Berani Tampil		
	SB	B	

2. Penilaian Pengetahuan : Tes Tertulis

Format Penilaian

Nama Peserta didik	Hasil Penilaian Pengetahuan			
	Aspek 1		Aspek 2	
	Tercapai (√)	Belum Tercapai (√)	Tercapai (√)	Belum Tercapai (√)

Keterangan :

- Aspek 1 : Keikutsertaan peserta didik dalam kegiatan berlatih
- Aspek 2 : Keikutsertaan peserta didik dalam kegiatan mengamati

3. Penilaian Keterampilan : Uji Unjuk Kerja

Aspek Kriteria	Sangat Paham	Paham	Kurang Paham	Belum Paham
	4	3	2	1
Hasil pekerjaan peserta didik mampu memahami materi Operasi hitung bilangan bulat	Sangat Paham mengenai materi Operasi hitung bilangan bulat	Paham mengenai materi Operasi hitung bilangan bulat	Paham sebagian mengenai materi Operasi hitung bilangan bulat	Belum paham mengenai materi Operasi hitung bilangan bulat

Tamban, 05 Desember 2022

Mengetahui,
Guru Kelas

Mahasiswa

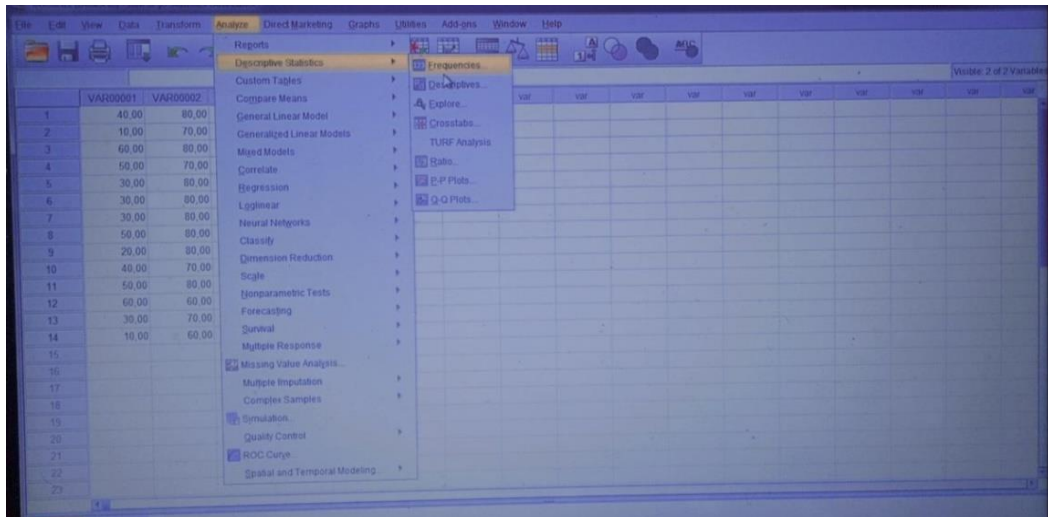
Norlatifah,S.Pd

Ari Mariati

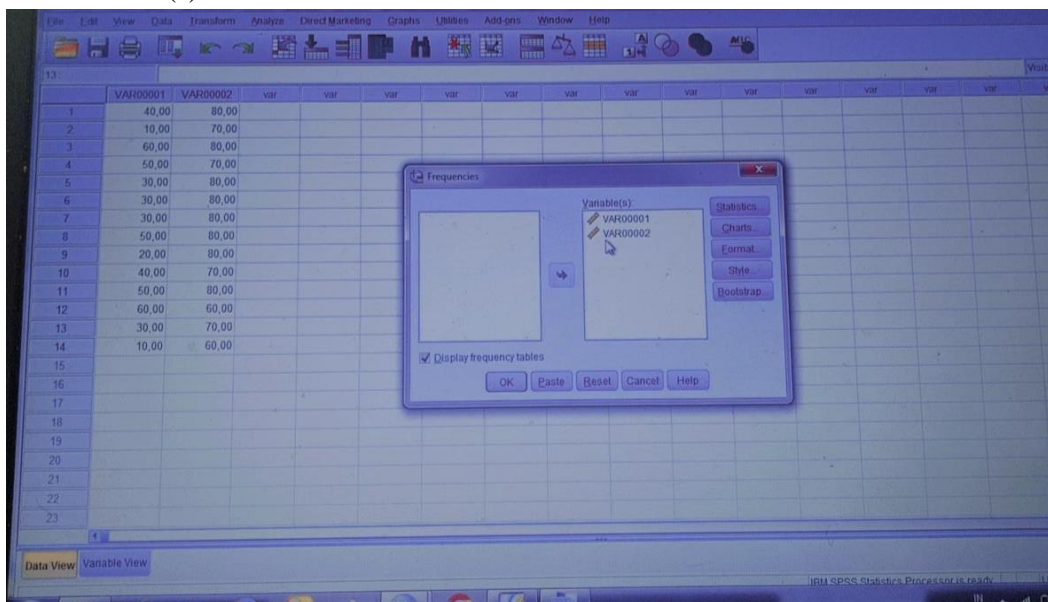
Lampiran 13 Perhitungan Rata-Rata (*Mean*), Standar Deviasi, Dan Varians *Pretest Dan Posttest*

Adapun langkah-langkahnya adalah sebagai berikut:

1. Klik menu analyze- descriptive statistics- frequencies



2. Akan muncul kotak dialog frequencies. Pindahkan variable Y dan X ke kotak variable (s)



3. Klik statistic lalu centang Mean, Standar Deviasi, Varians, Minimum dan Maksimum. Setelah itu klik continue, lalu ok.

		VAR00001	VAR00002
N	Valid	14	14
	Missing	0	0
Mean		36,4286	74,2857
Std. Deviation		16,45841	7,55929
Variance		270,879	57,143
Minimum		10,00	60,00
Maximum		60,00	60,00

Frequency Table

VAR00001

	Frequency	Percent	Valid Percent	Cumulative Percent
Valid 10,00	2	14,3	14,3	14,3
20,00	1	7,1	7,1	21,4
30,00	4	28,6	28,6	50,0
40,00	2	14,3	14,3	64,3
50,00	3	21,4	21,4	85,7
60,00	2	14,3	14,3	100,0
Total	14	100,0	100,0	

VAR00002

	Frequency	Percent	Valid Percent	Cumulative Percent
Valid 60,00	2	14,3	14,3	14,3
70,00	4	28,6	28,6	42,9
80,00	8	57,1	57,1	100,0
Total	14	100,0	100,0	

Tabel berikut adalah hasil dari perhitungan-perhitungan rata-rata (*mean*), standar deviasi, dan varians sebelum dan sesudah menggunakan strategi *Contextual Teaching and Learnin*.

Statistik

		VAR00001	VAR00002
N	Valid	14	14
	Missing	0	0
Mean		36,4286	74,2857
Std. Deviation		16,45841	7,55929
Variance		270,879	57,143
Minimum		10,00	60,00
Maximum		60,00	60,00

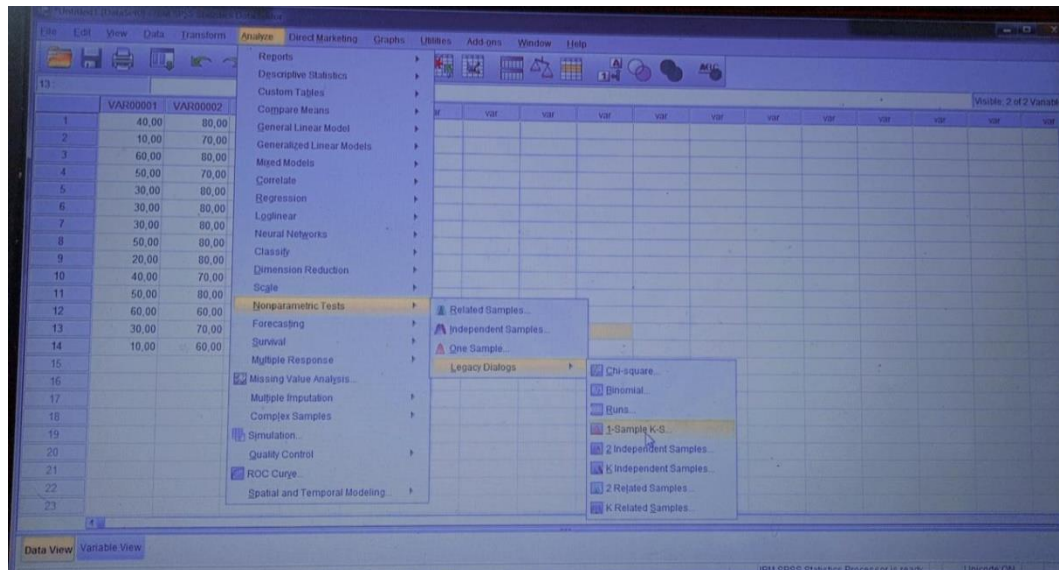
Keterangan:

VAR0001 =Pretest

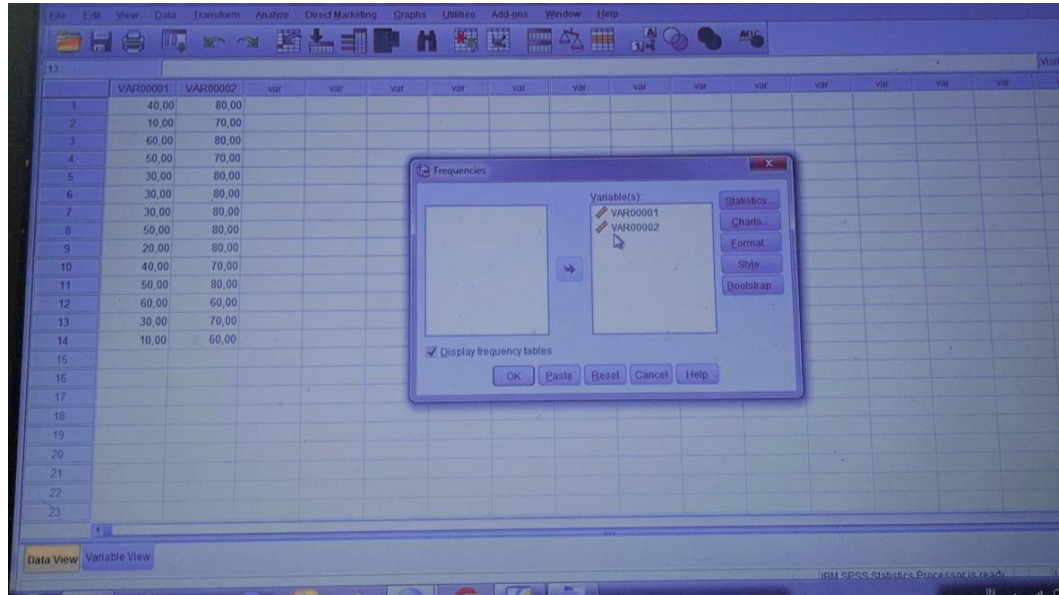
VAR0002= Posttest

Lampiran 14 Perhitungan Uji Normalitas *Pretest* Dan *Posttest*

1. Klik menu analyze- nonparametric tests- legacy dialogs- 1-Sample K-S



2. Masukkan variable ke kotak test variable list. Aktifkan pilihan normal pada test distribution. Lalu klik ok.



3. Hasilnya pada jendela output muncul hasil analisis statistic dari data yang diperoleh.

The screenshot shows the SPSS output window with the following content:

Normal Parameters^{a,b}

	Mean	Std. Deviation
VAR00001	36,4286	16,45841
VAR00002	74,2857	7,55929

Most Extreme Differences

	Absolute	Positive	Negative
VAR00001	,152	,152	-,152
VAR00002	,347	,225	-,347

Test Statistic

	VAR00001	VAR00002
VAR00001	,152	,347
VAR00002	,200 ^{c,d}	,000 ^c

Asymp. Sig. (2-tailed)

a. Test distribution is Normal.
b. Calculated from data.
c. Lilliefors Significance Correction.
d. This is a lower bound of the true significance.

NPART TESTS
/K-S (NORMAL)=VAR00001 VAR00002
/MISSING ANALYSIS.

→ NPar Tests

One-Sample Kolmogorov-Smirnov Test

	VAR00001	VAR00002
N	14	14
Normal Parameters ^{a,b}		
Mean	36,4286	74,2857
Std. Deviation	16,45841	7,55929
Most Extreme Differences		
Absolute	,152	,347
Positive	,152	,225
Negative	-,152	-,347
Test Statistic	,152	,347
Asymp. Sig. (2-tailed)	,200 ^{c,d}	,000 ^c

Hasil analisis statistik dari data yang diperoleh
One-Sample Kolmogorov-Smirnov Test

One-Sample Kolmogorov-Smirnov Test

	VAR00001	VAR00002
N	14	14
Normal Parameters ^{a,b}		
Mean	36,4286	74,2857
Std. Deviation	16,45841	7,55929
Most Extreme Differences		
Absolute	,152	,347
Positive	,152	,225
Negative	-,152	-,347
Test Statistic	,152	,347
Asymp. Sig. (2-tailed)	,200 ^{c,d}	,000 ^c

Data dikatakan normal apabila sinifikansinya $>0,05$.

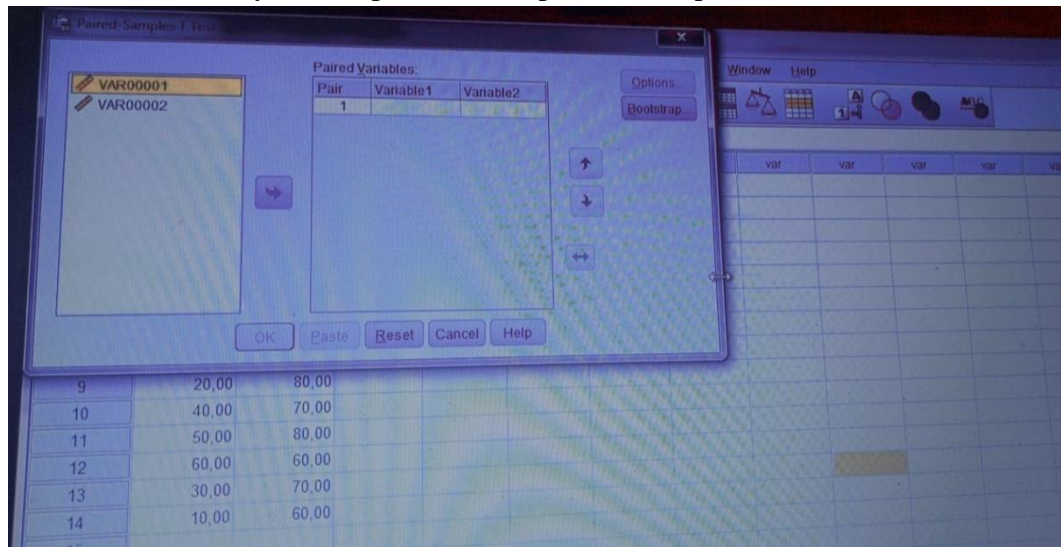
Keterangan:

VAR0001 =Pretest

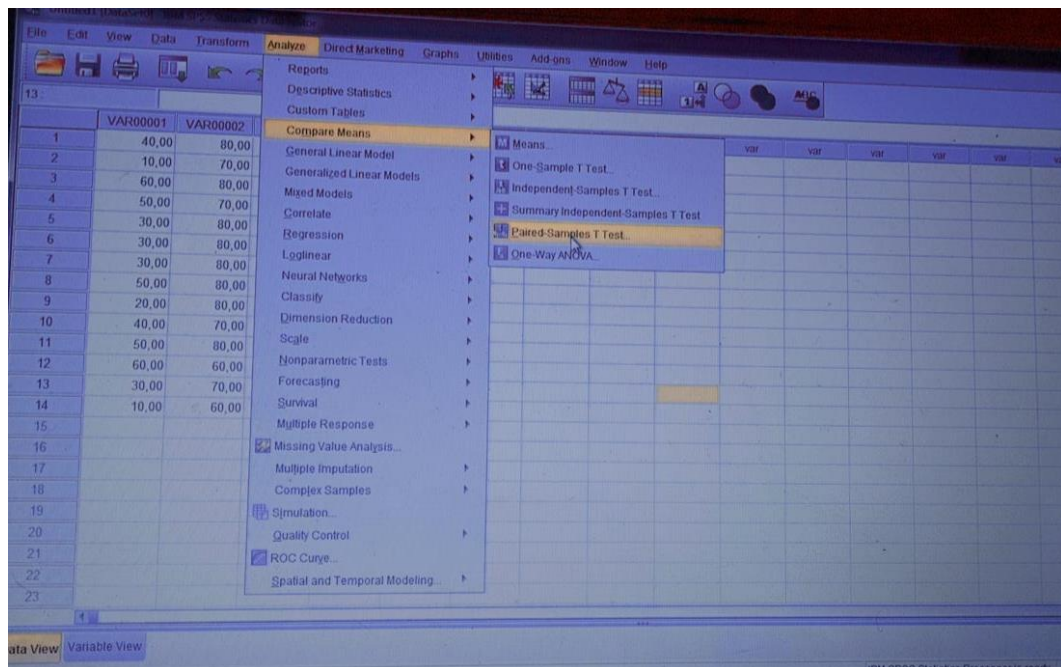
VAR0002= Posttest

Lampiran 15 Perhitungan Uji Paired T Test Pretest Dan Posttest

1. Klik menu analyze- compare Means- paired- Sample T Test



2. Lalu masukkan data VAR0001 ke kotak Variabel 1 dan VAR0002 ke kotak Variabel2



3. Kemudian klik OK.

T-TEST PAIRS=VAR00001 WITH VAR00002 (PAIRED)
/CRITERIA=CI (.9500)
/MISSING=ANALYSIS.

T-Test

Paired Samples Statistics

	Mean	N	Std. Deviation	Sig. Error Mean
Pair 1 VAR00001	36,4286	14	16,45841	4,39869
VAR00002	74,2857	14	7,55928	2,02031

Paired Samples Correlations

	N	Correlation	Sig.
Pair 1 VAR00001 & VAR00002	14	,132	,652

Paired Samples Test

		Paired Differences		Std. Error Mean	95% Confidence Interval of the Difference		t	df	Sig. (2-tailed)
		Mean	Std. Deviation		Lower	Upper			
Pair 1	VAR00001 - VAR00002	-37,85714	17,17716	4,59079	-47,77494	-27,93934	-8,246	13	,000

Paired Sample Test

		Paired Differences		Std. Error Mean	95% Confidence Interval of the Difference		t	df	Sig. (2-tailed)
		Mean	Std. Deviation		Lower	Upper			
Pair 1	VAR00001 - VAR00002	-37,85714	17,17716	4,59079	-47,77494	-27,93934	-8,246	13	,000

Dari hasil di atas dapat dilihat bahwa signifikansi (2-tailed) 0 yang mana $0 < 0,05$. Dengan ini dapat diketahui bahwa H_0 ditolak dan H_a di terima. Sehingga dapat disimpulkan bahwa terdapat pengaruh yang signifikan terhadap penggunaan strategi *Contextual Teaching and Learning* terhadap *High Order Thinking Skills* peserta didik kelas V MI Nahdatussibyan.

Lampiran 16 Surat Keputusan Penetapan Dosen Pembimbing Skripsi



KEPUTUSAN DEKAN FAKULTAS TARBIYAH DAN KEGURUAN
UIN ANTASARI BANJARMASIN
NOMOR 203 TAHUN 2021
TENTANG
PENETAPAN DOSEN PEMBIMBING SKRIPSI SEMESTER GANJIL
TAHUN AKADEMIK 2021/2022

DEKAN FAKULTAS TARBIYAH DAN KEGURUAN UIN ANTASARI,

- Menimbang** : a. bahwa untuk kelancaran mahasiswa Fakultas Tarbiyah dan Keguruan UIN Antasari Banjarmasin membuat skripsi, maka perlu menetapkan Dosen-Dosen Fakultas Tarbiyah dan Keguruan untuk menjadi pembimbing;
b. bahwa nama-nama sebagaimana tersebut dalam Surat Keputusan ini dipandang mampu dan cakap untuk ditetapkan sebagai Dosen Pembimbing Skripsi dimaksud.
- Mengingat** : 1. Undang-Undang RI No. 20 Tahun 2003 tentang Sistem Pendidikan Nasional;
2. Peraturan Presiden RI Nomor 36 Tahun 2017 tanggal 3 April 2017 tentang Universitas Islam Negeri Antasari Banjarmasin;
3. Peraturan Pemerintah No. 60 Tahun 1999 tentang Pendidikan Tinggi;
4. Surat Keputusan Menteri Agama No. 30 Tahun 2017 tentang Organisasi dan Tata Kerja UIN Antasari;
5. Surat Keputusan Menteri Agama No. 36 Tahun 2017 tentang Statuta UIN Antasari Banjarmasin;
6. Keputusan Rektor IAIN No. 217A Tahun 2012 tentang Perubahan atas Keputusan Rektor No. 72 Tahun 2007 tentang Pecoman Penulisan Skripsi Program Strata Satu (S-1) IAIN Antasari Banjarmasin.
- Memperhatikan** : Usul Ketua Jurusan PGMI Tanggal 07 Desember 2021
- MEMUTUSKAN:
- Menetapkan** : KEPUTUSAN DEKAN FAKULTAS TARBIYAH DAN KEGURUAN UIN ANTASARI TENTANG PENETAPAN DOSEN PEMBIMBING SKRIPSI MAHASISWA SEMESTER GANJIL TAHUN AKADEMIK 2021/2022
- Pertama** : Menunjuk dan menugaskan kepada:
1. Nama : Dr. Hj. Salamah M.Pd
NIP/NUP : 196809151994032002
Pangkat/Golongan : Pembina/IV/a
Jabatan Akademik : Lektor Kepala
Sebagai Pembimbing Bidang Konten dan Metodologi
2. Nama : M. Irfan Islamy M.Pd
NIP/NUP : 198710252015031002
Pangkat/Golongan : Penata/III/c
Jabatan Akademik : Lektor
Sebagai Pembimbing Bidang Bahasa dan Teknik Penulisan
- Untuk membimbing mahasiswa penyusun skripsi:
- Nama : Ari Mariati
NIM : 180101070305
Jurusan/Prodi : PGMI
Judul Skripsi : Pengaruh Strategi *Contextual Teaching And Learning* Terhadap *Higher Order Thinking Skills* Dalam Pembelajaran Siswa Kelas IV MI Nurul Huda
- Kedua** : Biaya akibat dikeluarkannya keputusan ini dibebankan kepada DIPA UIN Antasari Banjarmasin.
- Ketiga** : Keputusan ini berlaku sejak tanggal ditetapkan, dengan ketentuan bahwa apabila terdapat kekeliruan dalam penetapan ini, maka akan diadakan perbaikan dan perubahan sebagaimana mestinya.

Ditetapkan di Banjarmasin
pada tanggal 07 Desember 2021
DEKAN,



Dr. H. Hamdan, M.Pd.
NIP. 196604051993031005





- Tembusan:**
1. Rektor UIN Antasari Banjarmasin;
 2. Ketua Jurusan;
 3. Dosen Pembimbing;
 4. Arsip.






Lampiran 17 Lembar Konsultasi Dosen Pembimbing Teknik Bahasa Dan Tulisan



138

Lampiran XVII

Lembar Konsultasi Dosen Pembimbing Teknik Bahasa Dan Tulisan









Ke	Tanggal	Catatan Konsultasi	Tanda Tangan
1	22 November 2022	1. Tabel 2. Rumusan masalah, nomor 1 setelah kata "bagaimana" tambahkan kata "pelaksanaan". 3. Bagian penyajian data perbaiki kata-katanya. 4. a. Di bagian perencanaan cantumkan rpp, sumber belajar, media belajar, dan lkpd.	
2	7 Desember 2022	1. daftar isi 2. siswa diganti menjadi peserta didik 3. soal jangan di lampirkan di bab 3	
3	14 Desember 2022	1. Daftar isi bab 2 a. Konsep belajar dan pembelajaran, cantumkan pengertian, komponen, prinsip dan jenis-jenis/model pembelajaran. b. Pembelajaran ctl, cantumkan pengertian dan karakteristik, landasan, prosedur c. Hasil belajar dan prinsip-prinsipnya diganti menjadi jenis-jenis hasil belajar d. Pengertian hots diganti menjadi d. hots cantumkan pengertian dll. 2. Dibagian penyajian data ceritakan terlebih dahulu sebelum ke perencanaan. 3. Dibagian perencanaan cantumkan rpp, kdindikator, tujuan, prosedur 4. Dibagian kegiatan inti gambaran ctl, pelaksanaan terdiri dari pembukaan, inti, penutup (jelaskan) 5. Tabel di perencanaan 1 spasi saja. 6. Dibagian observasi tambahkan kata-kata "observasi dilakukan untuk menggali data tentang..."	
4	20 Desember 2022	1. bab 2 nomor 2 indikator hots 2. kegiatan inti dibagian penyajian materi cantumkan materi beserta tahapannya, pembelajaran secara rinci 3. alasan memakai uji t/uji u	

5.	11 Januari 2023	<ol style="list-style-type: none"> 1. dibagian simpulan, kalimatnya ganti menjadi berdasarkan paparan data yang telah di sajikan pada penelitian terdahulu, maka dapat disusun seperti kualitas ini, yaitu 2. dibagian simpulan nomor 1, ceritakan perencanaan pelaksanaan prosedur, sama seperti materi tapi sedikit saja diringkas. 3. Diskusi antara data dan teori 4. Analisis ada kutipannya 5. Tabel 6. Daftar pustaka 	
6	7 Februari 2023	<ol style="list-style-type: none"> 1. Awal alenia jangan menggunakan kata sambung 2. Tabel 1 spasi 3. Hal 66 4. Al quran atau hadits mengenai materi. 	
7	22 Februari 2023	<ol style="list-style-type: none"> 1. Data pokok halaman 49, strategi hots, penerapan ctl, prosedur 2. Hasil beajar hots 3. Data penunjang 4. Tes awal, perlakuan, tes akhir (deskripsikan) <ol style="list-style-type: none"> a Hasil pretest dan posttes b Uji hipotesis terdiri dari uji normalitas, uji homogenitas dan uji t 5. halaman 71 sambung saja jangan pakai alenia. 	
8	8 Maret 2023	<ol style="list-style-type: none"> 1. Halaman 63 B. pembahasan diganti menjadi penyajian data 2. Penyajian data terdiri dari persiapan, rpp, soal, lkpd 3. Halaman 66 penyajian materi dipertemuan 4 cantumkan aktivotas peserta didik dan aktivitas guru. 4. Halaman 68 pre test cantumkan tabel hasil nilai peserta didik 5. Halaman 69 pemberian perlakuan tambahkan dalam kurung pelaksanaan pembelajaran ctl, dan langkah-langkahnya. 6. Halaman 70 posttest cantumkan tabel hasil nilai peserta didik 7. Halaman 72 langsung saja ke uji hipotesis. 	
9	16 Maret 2023	<ol style="list-style-type: none"> 1. Dibagian penyajian data ceritakan sebelum terjun ke lapangan 2. Apersepsi 3. Rpp 	

10	4 Mei 2023	<ol style="list-style-type: none">1. Halaman 13 tulisan bab jangan menggunakan huruf tebal.2. Halaman 28 awal paragraph jangan menggunakan kata sambung3. Halaman 81 di bagian analisis data no. 1 judul sub bab diganti menjadi relevansi strategi ctl untuk meningkatkan kemampuan berpikir4. Halaman 83 no. 2 judul sub bab diganti menjadi efektivitas ctl	
11	11 Mei 2023	<ol style="list-style-type: none">1. Halaman 62 hasil penelitian dibagi menjadi 2, pertama gambaran umum, kedua deskripsi dan analisis data hasil penelitian2. Halaman 62 visi, misi, dan tujuan jangan menggunakan penomoran langsung saja dijadikan 1/2 paragraf dan menggunakan kata-kata sendiri3. Halaman 77 analisis data diganti menjadi pembahasan	

Lembar Konsultasi Dosen Pembimbing Bidang Konten Dan Metodologi

Lembar Konsultasi Dosen Pembimbing Bidang Konten Dan Metodologi

Ke	Tanggal	Catatan Konsultasi	Tanda Tangan
1.	23 November 2022	<ol style="list-style-type: none"> Jarak antar judul bab dengan teks 4 spasi (proposal 1.5, skripsi 2 spasi) Penggunaan kata ctl tidak konsisten apakah sebagai pendekatan, model, strategi, atau metode? Perhatikan pedoman UIN apakah subbab definisi dahulu atau rumusan masalah? 	
2.	15 Desember 2022	<ol style="list-style-type: none"> Margin awal paragraph 1,27 Konsisten innote atau footnote Bimbingan mengenai penggunaan aplikasi zotero 	
3.	12 Januari 2023	<ol style="list-style-type: none"> Jarak antar teks pada daftar isi adalah 1 spasi Penggunaan justify Perhatikan numbering 	
4.	9 Februari 2023	<ol style="list-style-type: none"> Tabel hal 40 Hal 49 Hal 58 	
5.	9 Februari 2023	Bimbingan mengenai spasi pada tabel, jarak antar sub bab, dan penggunaan footnote.	
6.	15 Maret 2023	<ol style="list-style-type: none"> Footnote 3, nama jangan di balik Footnote menjorok ke dalam semua Bagian kelemahan halaman 33 beri penjelasan di awal biar numbering 1 kembali ke 0 	
7.	14 April 2023	<ol style="list-style-type: none"> Di bagian Al quran ada yang kurang tepat Dalam kurung tidak ada spasi Liati bagian yang typo 	
8.	26 Mei 2023	<ol style="list-style-type: none"> Bagian kesimpulan nomor 2 tambahkan sedikit kata-kata lagi Penggunaan bahasa Inggris Daftar gambar 	

Lampiran 18 Surat Keterangan Telah Melakukan Seminar Proposal Skripsi



**KEMENTERIAN AGAMA REPUBLIK
INDONESIA UNIVERSITAS ISLAM NEGERI ANTASARI
BANJARMASIN FAKULTAS TARBIYAH DAN KEGURUAN
JURUSAN PENDIDIKAN GURU MADRASAH IBTIDAIYAH**
Jalan Jenderal Ahmad Yani KM. 4,5 Banjarmasin 70235
Telepon (0511) 3253939 Faksimile (0511) 3274492
Email: fk.antasari@gmail.com Web:
fk.iain-antasari.ac.id

SURAT KETERANGAN

Nomor: 64/Un.14/II.2.J/PP.00.9/09/2022

Yang bertanda tangan di bawah ini, menerangkan

bahwa: Nama : Ari Mariati

NIM : 180101070305

Jurusan/Prodi : PGMI

adalah benar telah melaksanakan Seminar Desain Operasional Skripsi yang berjudul:

**PENGARUH STRATEGI CONTEXTUAL TEACHING AND
LEARNING TERHADAP HIGH ORDER THINKING SKILLS DALAM
PEMBELAJARAN SISWA KELAS V MI NAHDATUSSIBYAN**

pada:

Hari/Tanggal : Jum'at, 19 Agustus 2022


Tempat : Zoom Meeting

Demikian surat keterangan ini dibuat, untuk dipergunakan sebagaimana mestinya

Banjarmasin, 12 September 2022

Dr. Noor Alfulaila, M.Pd

Lampiran 19 Surat Uji Validasi


KEMENTERIAN AGAMA REPUBLIK INDONESIA
UNIVERSITAS ISLAM NEGERI ANTASARI BANJARMASIN
FAKULTAS TARBİYAH DAN KEGURUAN
 Jalan Jenderal Ahmad Yani Km. 4.5 Banjarmasin 70235
 Telepon (0511) 3253939; Faksimili (0511) 3274492;
 Website: ftk.uin-antasari.ac.id; E-mail: ftk@uin-antasari.ac.id

Nomor : B-3065/Un.14/III.1/PP.00.9/11/2022 November 2022
 Sifat : Penting
 Lampiran : -
 Hal : Uji Validasi dalam Rangka Penyusunan Skripsi


Yth. **Ibu Norlatifah, S.Pd**
 Banjarmasin

Assalamu'alaikum Wr.Wb
 Sehubungan rencana penelitian yang akan dilaksanakan oleh mahasiswa kami dalam rangka penyusunan skripsi yang berjudul **"Pengaruh Strategi Contextual Teaching and Learning Terhadap High Order Thinking Skills Dalam Pembelajaran Matematika Siswa Kelas V MI Nahdatussibyan"**, maka dengan ini kami mohon izin serta bantuan Bapak/Ibu berkenan memberikan waktu yang diperlukan oleh :

Nama : Ari Mariati
 NIM : 180101070305
 Program Studi : S1 Pendidikan Guru Madrasah Ibtidaiyah
 Fakultas : Tarbiyah dan Keguruan
 Alamat : Jl. Taman Sari Bunga Desa Tinggiran Baru RT.08


Untuk melakukan uji validasi materi dalam rangka pengumpulan bahan untuk penyusunan skripsi.
 Demikian surat ini kami sampaikan, atas perhatian dan perkenan Bapak/Ibu serta kerjasamanya yang baik kami ucapkan terima kasih.
Wassalamu'alaikum Wr.Wb

Wakil Dekan Bidang Akademik
 dan Kelembagaan,


 Ahmad Muradi

Tembusan :
 1. Dekan Fakultas Tarbiyah dan Keguruan
 2. Kepala MI Nahdatussibyan

Lampiran 20 Surat Izin Riset dari Dekan Fakultas Tarbiyah dan Keguruan


KEMENTERIAN AGAMA REPUBLIK INDONESIA
UNIVERSITAS ISLAM NEGERI ANTASARI BANJARMASIN
FAKULTAS TARBİYAH DAN KEGURUAN
 Jalan Jenderal Ahmad Yani Km. 4,5 Banjarmasin 70235
 Telepon (0511) 3253939; Faksimili (0511) 3274492;
 Website: ftk.uin-antasari.ac.id; E-mail: ftk@uin-antasari.ac.id

SURAT RISET

Nomor : B- 3129 /Un.14/III.1/PP.00.9/11/2022


Yang bertanda tangan tangan Wakil Dekan Bidang Akademik dan Kelembagaan Fakultas Tarbiyah dan Keguruan UIN Antasari, dengan ini menugaskan kepada :

Nama : Ari Mariati
 NIM : 180101070305
 Semester : IX (sembilan)
 Alamat : Jl. Taman sari bunga desa Tinggiran Baru RT 08
 Tugas : Melakukan Riset / Penelitian Ilmiah dalam rangka pengumpulan data untuk penyusunan Skripsi sarjana dengan Judul :

PENGARUH STRATEGI CONTEXTUAL TEACHING AND LEARNING TERHADAP HIGH ORDER THINKING SKILLS DALAM PEMBELAJARAN MATEMATIKA SISWA KEPAS V MI NAHDATUSSIBYAN

Tempat Penelitian : MI Nahdatussibyan
 Lamanya Riset : 2 (Dua) Bulan
 Dari Tanggal : 28 November 2022
 Sampai Tanggal : 28 Januari 2023


Demikian surat Riset diberikan kepada ybs, agar pihak-pihak yang berkepentingan dapat memberikan bantuan seperlunya.

Banjarmasin, 28 November 2022
 Wakil Dekan Bidang Akademik dan Kelembagaan,

 Dr. Ahmad Muradi, M.Ag
 NIP 197808082005011006

Mahasiswa yang bersangkutan,

Ari Mariati
 180101070305

Lampiran 21 Surat Permohonan Riset

**KEMENTERIAN AGAMA REPUBLIK INDONESIA**
UNIVERSITAS ISLAM NEGERI ANTASARI BANJARMASIN
FAKULTAS TARBİYAH DAN KEGURUAN
Jalan Jenderal Ahmad Yani Km. 4.5 Banjarmasin 70235
Telepon (0511) 3253939; Faksimili (0511) 3274492;
Website: ftk.uin-antasari.ac.id; E-mail: ftk@uin-antasari.ac.id


Nomor : B-3/189 /Un.14/III.1/PP.00.9/11/2022 28 November 2022
Sifat : Penting
Lampiran : 1 (Satu) Berkas
Hal : Mohon Izin Riset


Yth. Kepala MI Nahdatussibyan
Kabupaten Barito Kuala

Assalamu'alaikum Wr.Wb
Sehubungan rencana penelitian yang akan dilaksanakan oleh mahasiswa (i) dalam rangka penyusunan skripsi, maka dengan ini kami mohon izin serta bantuan Bapak/Ibu agar kiranya berkenan memberikan informasi/data yang diperlukan oleh :

Nama : Ari Mariati
NIM : 180101070305
Program Studi : S1 Pendidikan Guru Madrasah Ibtidaiyah
Fakultas : Tarbiyah dan Keguruan
Alamat : Jl. Taman sari bunga desa Tinggiran Baru RT 08
No HP : 085249525650

Demikian surat keterangan ini kami sampaikan, atas perhatian dan perkenan Bapak/Ibu serta kerjasamanya yang baik kami ucapkan terimakasih.
Wassalamu'alaikum Wr.Wb

Wakil Dekan Bidang Akademik dan Kelembagaan,

Ahmad Muradi



Tembusan :
Dekan Fakultas Tarbiyah dan Keguruan



**KEMENTERIAN AGAMA REPUBLIK INDONESIA
UNIVERSITAS ISLAM NEGERI ANTASARI BANJARMASIN
FAKULTAS TARBİYAH DAN KEGURUAN**

Jalan Jenderal Ahmad Yani Km. 4.5 Banjarmasin 70235
Telepon (0511) 3253939; Faksimili (0511) 3274492;
Website: ftk.uin-antasari.ac.id; E-mail: ftk@uin-antasari.ac.id

Nomor : B-149/Un.14/III.1/PP.00.9/11/2022
Sifat : Penting
Lampiran : 1 (Satu) Berkas
Hal : Surat Izin Riset

28 November 2022

Yth.
.....
.....

Assalamu'alaikum Wr.Wb

Sehubungan rencana penelitian yang akan dilaksanakan oleh mahasiswa (i) dalam rangka penyusunan skripsi, maka dengan ini kami mohon izin serta bantuan Bapak/Ibu agar kiranya berkenan memberikan informasi/data yang diperlukan oleh :

Nama : Ari Mariati
NIM : 180101070305
Program Studi : S1 Pendidikan Guru Madrasah Ibtidaiyah
Fakultas : Tarbiyah dan Keguruan
Alamat : Jl. Taman sari bunga desa Tinggiran Baru RT 08
No HP : 085249525650

Demikian surat keterangan ini kami sampaikan, atas perhatian dan perkenan Bapak/Ibu serta kerjasamanya yang baik kami ucapkan terimakasih.
Wassalamu'alaikum Wr.Wb



Wakil Dekan Bidang Akademik dan Kelembagaan,

Ahmad Muradi
Ahmad Muradi

Tembusan :
Dekan Fakultas Tarbiyah dan Keguruan

Lampiran 22 Dokumentasi Penelitian

Situasi Pada Saat Pemberian Perlakuan Kepada Peserta Didik Kelas V MI Nahdatussibyan



Foto Bersama Peserta Didik dan Wali Kelas V MI Nahdatussibyan



RIWAYAT HIDUP PENULIS

1. Nama Lengkap : Ari Mariati
2. TTL : Tinggiran Baru, 17 April 2000
3. Agama : Islam
4. Kebangsaan : Indonesia
5. Status perkawinan : Belum Kawin
Alamat : Jl.Taman Sari Bunga Desa Tinggiran Baru RT.08,
Kec.Mekarsari, Kab.Barito Kuala, Kalimantan
Selatan.
6. Pendidikan :
a.SDN Tinggiran Baru 1 Jatuh Lulus tahun 2012
b.SMPN 1 Mekarsari Jatuh Lulus tahun 2015
c.SMAN 1 Mekarsari Jatuh Lulus tahun 2018
7. Pengalaman Organisasi : KSR PMI Unit UIN Antasari Banjarmasin
8. Orang Tua :
Ayah
Nama : Mariman
Pekerjaan : Petani
Alamat : Jl. Taman Sari Bunga Desa Tinggiran Baru RT.08,
Kec. Mekarsari, Kab. Barito Kuala, Kalimantan
Selatan.
Ibu
Nama : Diah
Pekerjaan : Ibu rumah tangga
Alamat : Jl. Taman Sari Bunga Desa Tinggiran Baru RT.08,
Kec.Mekarsari, Kab.Barito Kuala, Kalimantan
Selatan.
9. Saudara (Jumlah Saudara) : 4 Orang Bersaudara
10. Suami/Isteri : -

Banjarmasin, 16 Maret 2023
Penulis,

Ari Mariati