

Lampiran 1**LEMBAR TERJEMAH**

No	BAB	Halaman	Terjemah
1.	1	3	<i>“ Hai orang-orang beriman apabila dikatakan kepadamu: “Berlapang-lapanglah dalam majlis”, maka lapangkanlah niscaya Allah akan memberikan kelapangan untukmu dan apabila dikatakan: “Berdirilah kamu”, maka berdirilah, niscaya Allah akan meninggikan orang-orang yang beriman diantaramu dan orang-orang yang diberi ilmu pengetahuan beberapa derajat. Dan Allah Maha Mengetahui apa yang kamu kerjakan”</i>
2.	2	16	<i>“Pembelajaran adalah sebuah proses aktif yang perlu ditirukan dan dibimbing tujuan yang diinginkan.”</i>
3.	2	18	<i>“Hai manusia, sesungguhnya Kami menciptakan kamu dari seorang laki-laki dan seorang perempuan dan menjadikan kamu berbangsa-bangsa dan bersuku-suku supaya kamu saling kenal-mengenal. Sesungguhnya orang yang paling mulia diantara kamu disisi Allah ialah orang yang paling taqwa diantara kamu. Sesungguhnya Allah Maha Mengetahui lagi Maha Menenal.”</i>

Lampiran 2. Soal Uji Validitas

LEMBAR SOAL

⌘ **Pilihan Ganda**

Berilah tanda silang (X) pada salah satu jawaban yang benar.

1. Berikut ini yang merupakan kenampakan adalah
 - a. Rumah
 - b. Gunung
 - c. Sawah
 - d. Bendungan

2. Ada bermacam-macam kenampakan alam daratan, berikut ini yang termasuk kenampakan alam berupa daratan adalah
 - a. Danau
 - b. Laut
 - c. selat
 - d. gunung

3. Sungai adalah
 - a. Tanah basah yang selalu digenangi air dan ditumbuhi tanaman
 - b. Cekungan yang cukup luas di permukaan bumi yang digenangi oleh air
 - c. Batas antara daratan dan lautan
 - d. Saluran buatan alam yang dialiri oleh air tawar

4. Contoh perilaku yang menjaga lingkungan adalah ..
 - a. Membuang sampah di tempat yang disediakan
 - b. Membuang sampah rumah tangga di selokan
 - c. Menebang pohon di hutan secara liar
 - d. Membuang limbah pabrik di sungai

5. Batas antara daratan dan lautan disebut
 - a. Pantai
 - b. Gunung
 - c. danau
 - d. lembah

6. Persediaan air bersih semakin berkurang, salah satu penyebabnya adalah....
 - a. Masyarakat rajin menanam lahan yang gundul
 - b. Orang tidak menebangi pohon-pohon di hulu sungai
 - c. Pohon-pohon di hutan habis di tebang
 - d. Masyarakat meninggalkan kebiasaan perladangan berpindah

7. Gunung yang masih aktif dapat menghasilkan barang-barang tambang. Salah satu contohnya adalah
 - a. batu
 - b. kayu
 - c. jagung
 - d. ikan

8. Dataran Tinggi Alas terdapat di daerah
 - a. Nangroe Aceh Darussalam
 - b. Sumatera Utara
 - c. Nusa Tenggara Barat
 - d. Jawa Barat

9. Wilayah yang daratannya berada pada ketinggian antara 0 - 200 meter disebut

- a. dataran rendah c. dataran tinggi
b. pegunungan d. perbukitan
10. Pantai Carita yang menjadi salah satu tujuan wisata di Indonesia terdapat di provinsi ...
a. Jawa Timur c. Nusa Tenggara Timur
b. Bangka d. Banten
11. Bagian dataran tinggi yang bergunung-gunung yang tingginya mencapai lebih dari 700 meter di atas permukaan laut disebut...
a. perbukitan c. lembah
b. dataran tinggi d. pegunungan
12. Menanam sayur-sayuran seperti kol, wortel, dan buncis biasanya dilakukan oleh penduduk yang tinggal ...
a. di daerah perkotaan
b. di sekitar pantai yang landai
c. di daerah pegunungan dan dataran tinggi
d. di daerah dengan padang rumput luas
13. Danau Toba terdapat di daerah ...
a. Sumatera Utara
b. Nangroe Aceh Darussalam
c. Sumatera Selatan
d. Lampung
14. Gempa bumi yang disebabkan oleh letusan gunung berapi disebut gempa ...
a. tektonik c. susulan
b. runtuhan d. vulkanik
15. Cairan yang sangat panas yang keluar dari perut bumi pada waktu gunung berapi meletus disebut ...
a. lahar c. lava
b. magma d. pasir
16. Rumah, bendungan, jalan, dan sawah dikelompokkan sebagai kenampakan...
a. Alam c. ekosistem
b. sosial dan budaya d. populasi
17. Pantai adalah batas antara ... dan
a. Tanah dan air c. laut dan daratan
b. Sungai dan teluk d. sungai dan lautan
18. Masyarakat di daerah pantai umumnya bekerja sebagai...
a. Petani c. penjahit
b. Nelayan d. buruh pabrik
19. Membuang limbah industri ke sungai dapat menyebabkan pencemaran...
a. Laut c. Sungai
b. Tanah d. Sawah

20. Membuka lahan pertanian dengan cara menebang hutan dan membakarnya disebut
- a. Perladangan berpindah
 - b. Nomaden
 - c. Bertani
 - d. Beternak
21. Pegunungan Meratus terdapat di
- a. Kalimantan Utara
 - b. Kalimantan Selatan
 - c. Sumatera selatan
 - d. Lampung
22. Cekungan yang cukup besar yang digenangi oleh air disebut
- a. Selat
 - b. Pantai
 - c. danau
 - d. sungai
23. menghubungkan satu pulau dengan pulau-pulau lainnya.
- a. Selat
 - b. Sungai
 - c. Danau
 - d. Laut
24. Dibandingkan dengan daerah pantai dan perkotaan teknologi dan informasi lebih ... masuk ke daerah pedalaman yang terisolasi.
- a. Cepat
 - b. Mudah
 - c. Cepat dan mudah sekali
 - d. Sulit dan lambat
25. Sebagai warga masyarakat, salah satu usaha kita dalam menyikapi masalah sampah ialah dengan cara
- a. Membuang sampah sembarangan di tempat umum
 - b. Menanam pohon sebanyak-banyaknya
 - c. Membuang sampah dengan memisahkan antara sampah organik dan non-organik
 - d. Membuang sampah sayuran ke sungai

Lampiran 3. Kunci Jawaban Uji Validitas

Kunci Jawaban Soal Uji Validitas

Jawaban Soal Pilihan Ganda

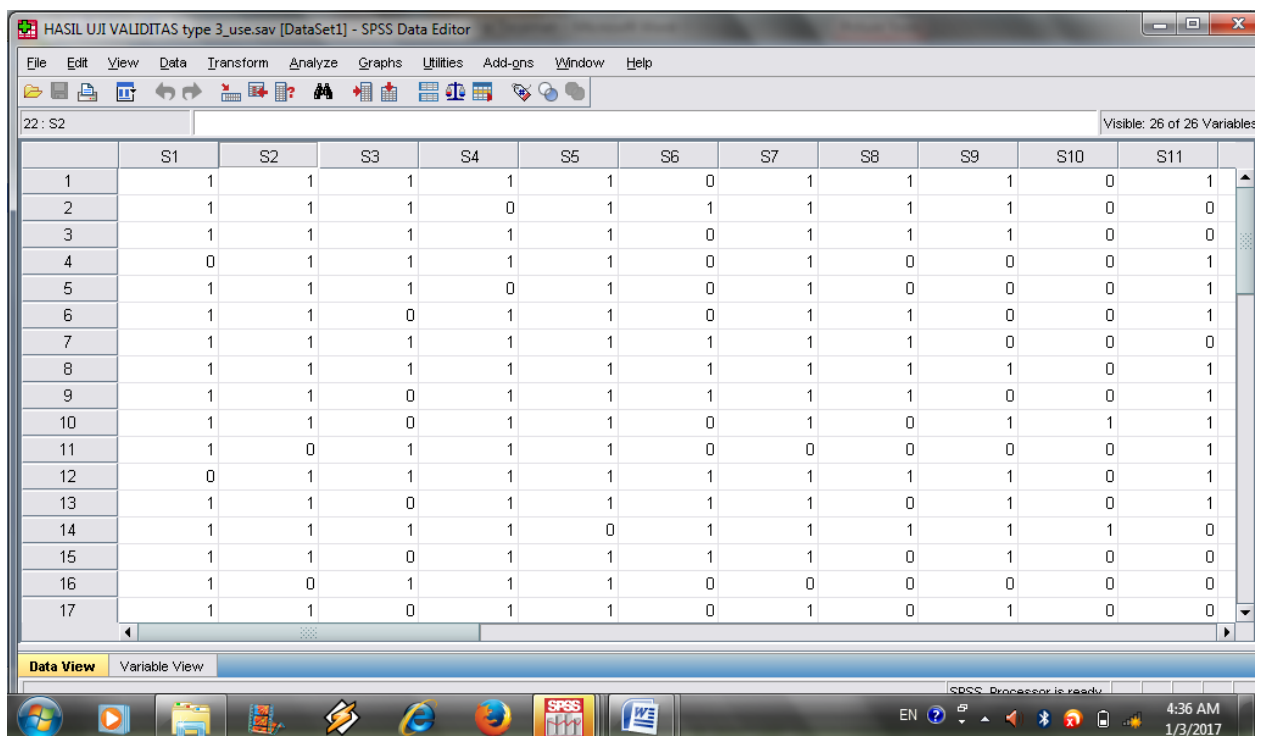
1. B
2. D
3. D
4. A
5. A
6. C
7. A
8. A
9. A
10. D
11. D
12. C
13. A
14. D
15. C
16. A
17. C
18. B
19. C
20. A
21. B
22. C
23. A
24. D
25. C

Lampiran

CARA PERHITUNGAN UJI VALIDITAS DAN RELIABELITAS MENGGUNAKAN APLIKASI SPSS 16

1. Perhitungan Validitas Butir Soal

Perhitungan uji validitas butir soal menggunakan aplikasi SPSS 16 sebagai berikut :



HASIL UJI VALIDITAS type_3_use.sav [DataSet1] - SPSS Data Editor

File Edit View Data Transform Analyze Graphs Utilities Add-ons Window Help

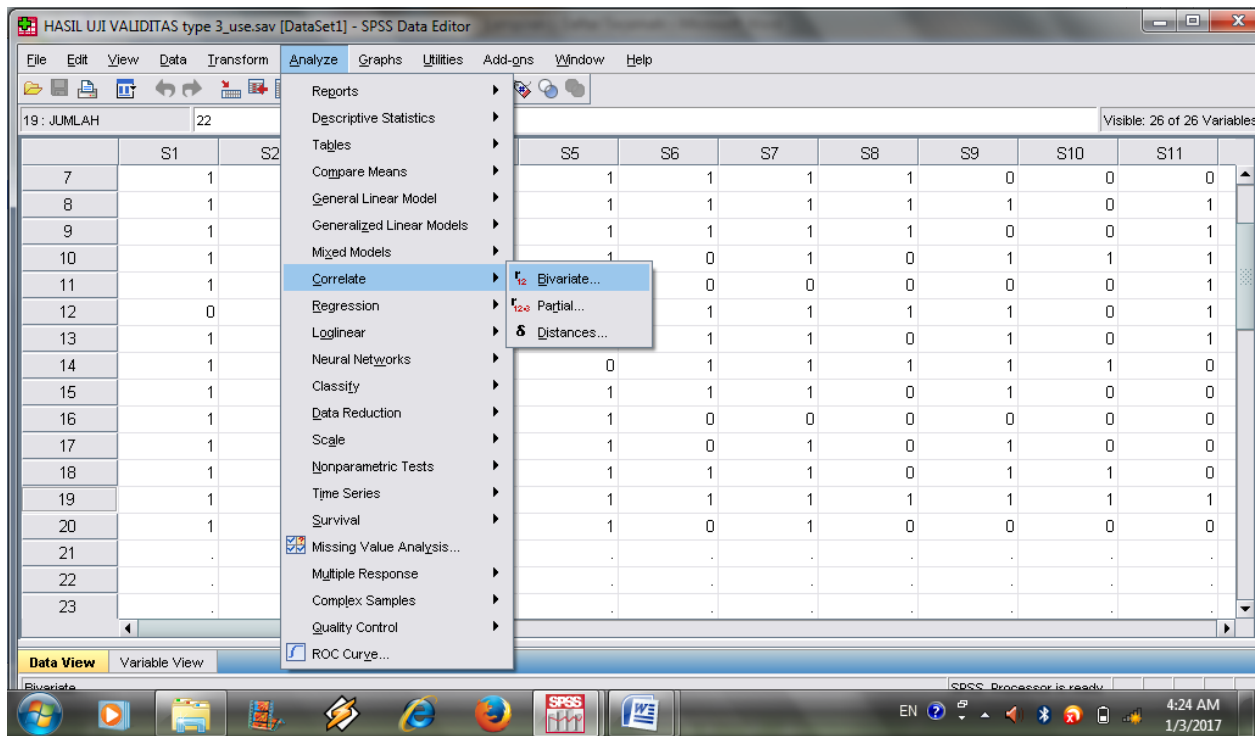
22: S2 Visible: 26 of 26 Variables

	S1	S2	S3	S4	S5	S6	S7	S8	S9	S10	S11
1	1	1	1	1	1	0	1	1	1	0	1
2	1	1	1	0	1	1	1	1	1	0	0
3	1	1	1	1	1	0	1	1	1	0	0
4	0	1	1	1	1	0	1	0	0	0	1
5	1	1	1	0	1	0	1	0	0	0	1
6	1	1	0	1	1	0	1	1	0	0	1
7	1	1	1	1	1	1	1	1	0	0	0
8	1	1	1	1	1	1	1	1	1	0	1
9	1	1	0	1	1	1	1	1	0	0	1
10	1	1	0	1	1	0	1	0	1	1	1
11	1	0	1	1	1	0	0	0	0	0	1
12	0	1	1	1	1	1	1	1	1	0	1
13	1	1	0	1	1	1	1	0	1	0	1
14	1	1	1	1	0	1	1	1	1	1	0
15	1	1	0	1	1	1	1	0	1	0	0
16	1	0	1	1	1	0	0	0	0	0	0
17	1	1	0	1	1	0	1	0	1	0	0

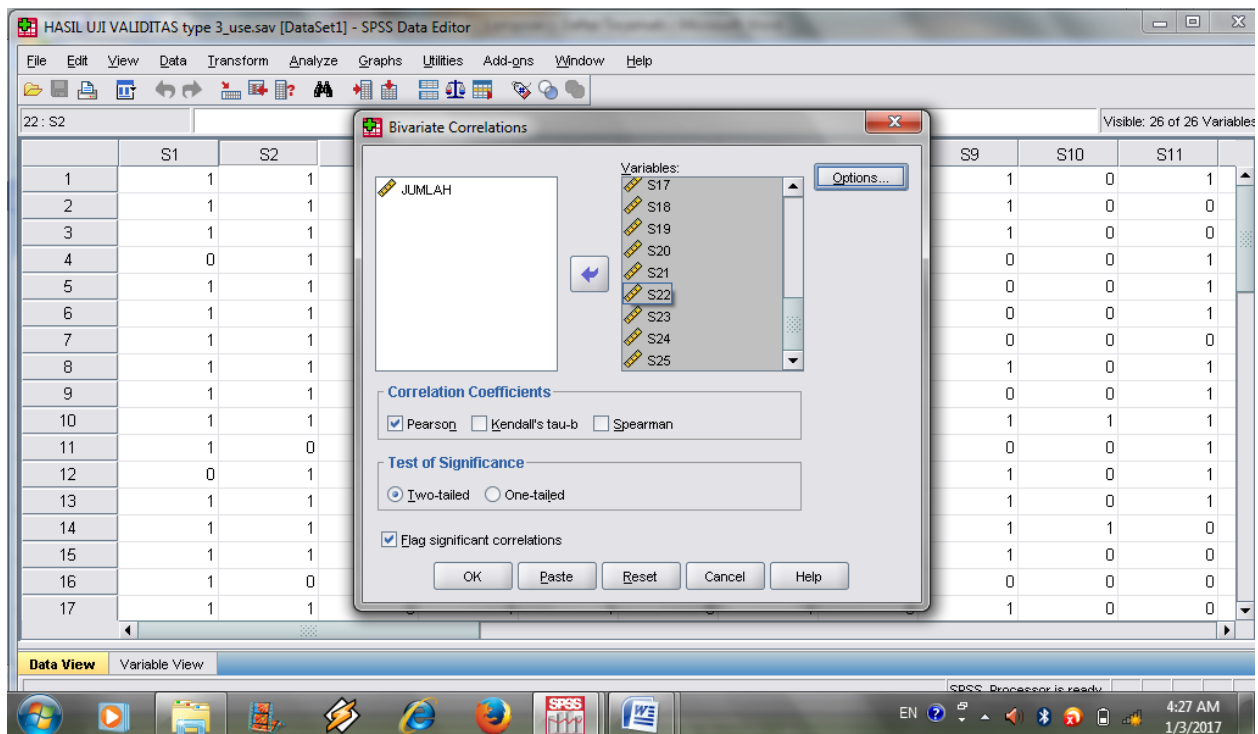
Data View Variable View

SPSS Processor is ready

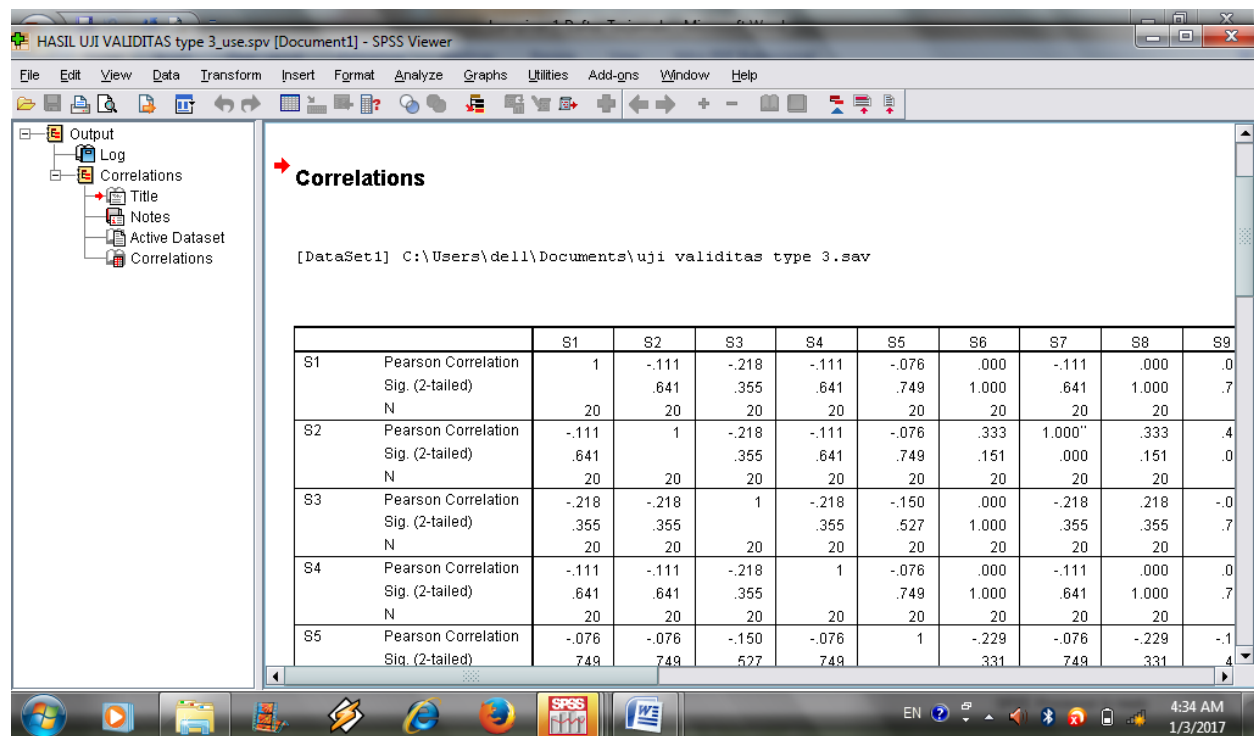
4:36 AM
1/3/2017



Lampiran 5 (Lanjutan..)



Berdasarkan pada tabel harga *rproduct moment* pada taraf signifikansi 5% dengan $N = 20$ dapat dilihat pada $r_{tabel} = 0.3598$ dan r_{xy} seperti pada tabel di bawah ini. Dengan cara perhitungan menggunakan aplikasi tersebut, diperoleh harga validitas butir soal sebagai berikut:



Lampiran 5 (Lanjutan..)

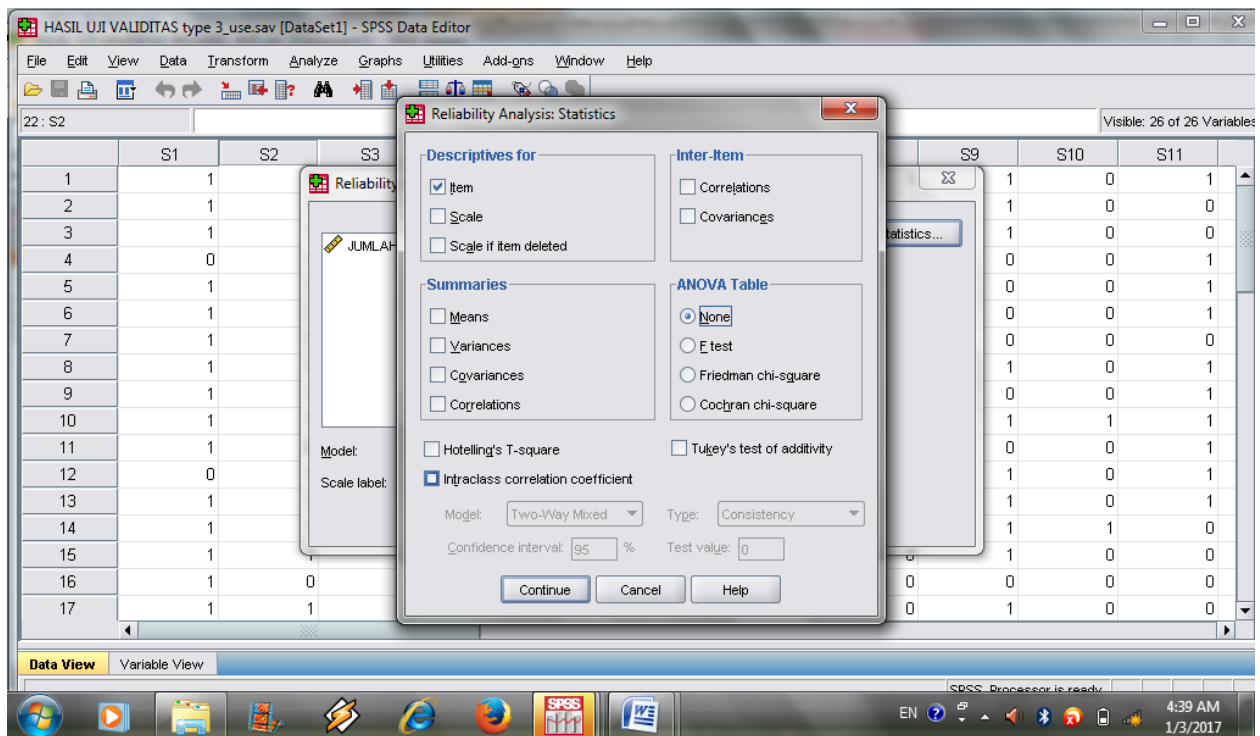
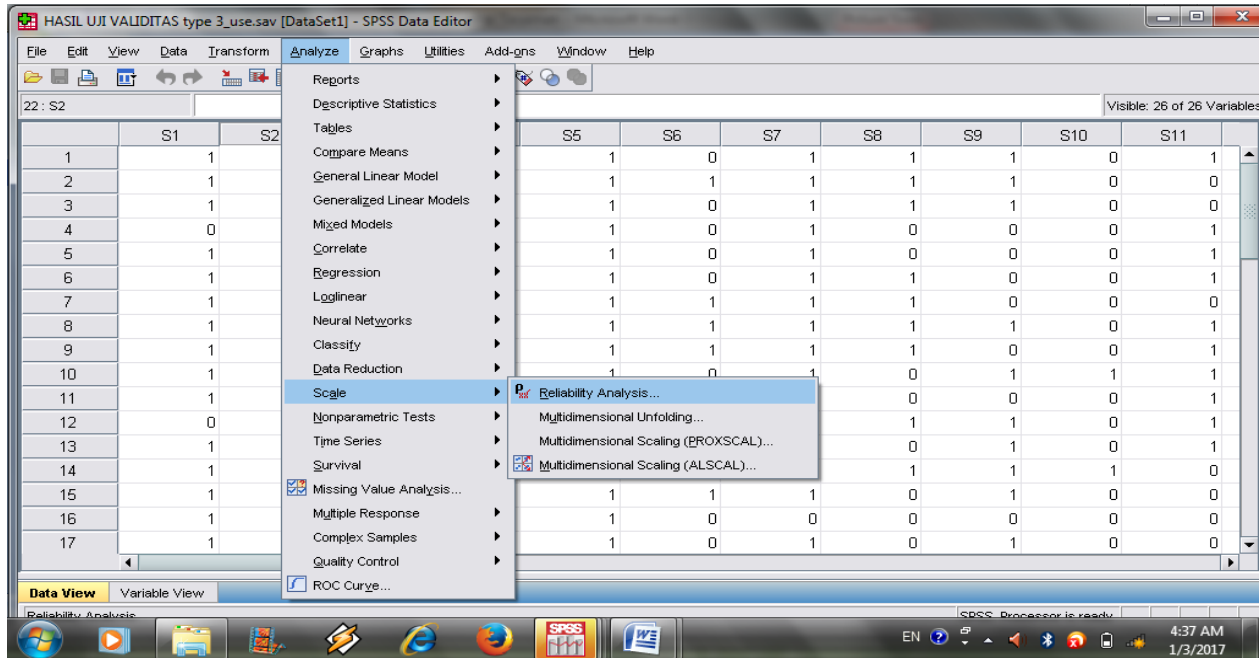
Butir Soal	r_{xy}	Keterangan
1	0,084	Tidak Valid
2	0,408	Valid
3	0,123	Tidak Valid
4	-0,045	Tidak Valid
5	-0,254	Tidak Valid
6	0,680	Valid
7	0,408	Valid
8	0,563	Valid
9	0,603	Valid
10	0,408	Valid
11	0,209	Tidak Valid
12	-0,131	Tidak Valid
13	0,642	Valid
14	0,214	Tidak Valid
15	0,420	Valid
16	0,038	Tidak Valid
17	0,281	Tidak Valid
18	0,408	Valid
19	0,380	Valid
20	-0,117	Tidak Valid
21	0,165	Tidak Valid
22	-0,004	Tidak Valid

23	0,209	Tidak Valid
24	0,034	Tidak Valid
25	0,223	Tidak Valid

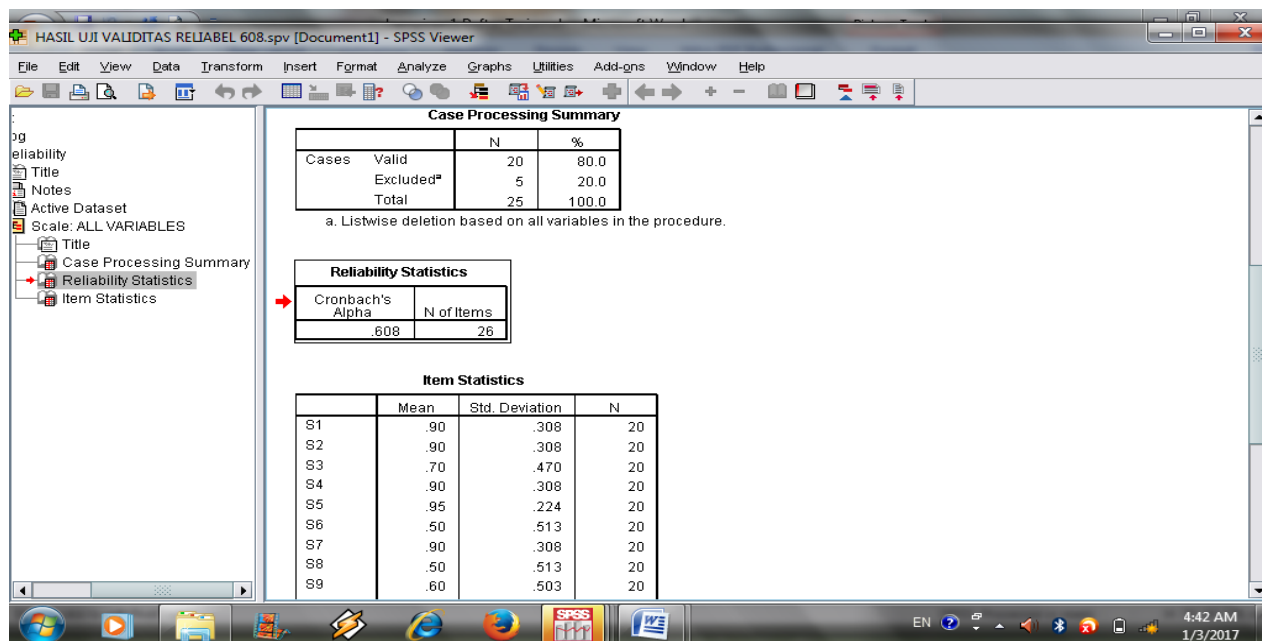
Berdasarkan uji validitas yang dilakukan didapat 10 soal yang valid yaitu soal nomor 2, 6, 7, 8, 9, 10, 13, 15, 18 dan 19, dan untuk soal nomor 1,3,4,5,11,12,14,16,17,20,21,22,23,24 dan 25 dinyatakan tidak valid.

Lampiran 5 (Lanjutan..)

2. Perhitungan Reliabilitas Butir Soal



Lampiran 5 (Lanjutan..)



Sehingga dihasilkan harga reliabel sebagai berikut

Butir Soal	R ₁₁	Keterangan
1		
2		
3		
4		
5		
6		
7		
8		
9		
10		
11		
12		
13	0.608	Reliabel
14		
15		
16		
17		
18		
19		
21		
22		
23		
24		

Lampiran 5 (Lanjutan...)

Analisis: Berdasarkan nilai Cronbach's Alpha pada tabel Reliability Statistics diperoleh nilai 0,608 dimana nilai ini ditafsirkan dengan kriteria

No Reliabilitas Kategori

1. 0,800 - 1,000 Sangat tinggi
2. 0,600 - 0,799 Tinggi
3. 0,400 - 0,500 Cukup
4. 0,200 - 0,399 Rendah
5. > 0,200 Sangat rendah

maka dapat disimpulkan tes ini memiliki tingkat reliabilitas **Tinggi**.